










الاسم:-----

مراجعات للصف الرابع

التاريخ:-----

في عمليتي الضرب والقسمة

(1) اكتب تمرين جمع وتمرين ضرب لكل صورة:-

			_____	
				_____
		_____		

(2) حلّ:-

$7 \times 8 = \underline{\quad}$

$3 \times \underline{\quad} = 18$

$9 \times 0 = \underline{\quad}$

$4 \times 9 = \underline{\quad}$

$4 \times \underline{\quad} = 16$

$0 \times 3 \times 8 = \underline{\quad}$

$6 \times 6 = \underline{\quad}$

$8 \times \underline{\quad} = 24$

$12 \times \underline{\quad} = 12$

$1 \times \underline{\quad} = 15$

$5 \times 6 \times 1 = \underline{\quad}$

$9 \times \underline{\quad} = 0$

(3) حلّ:-

$40 \times 20 = \underline{\quad}$

$70 \times 30 = \underline{\quad}$

$60 \times 50 = \underline{\quad}$

$40 \times 9 = \underline{\quad}$

4) حلّ التمارين الآتية:-

$$19 : 2 = \underline{\hspace{2cm}} \quad (\quad)$$

$$26 : 3 = \underline{\hspace{2cm}} \quad (\quad)$$

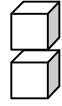
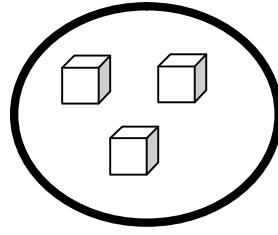
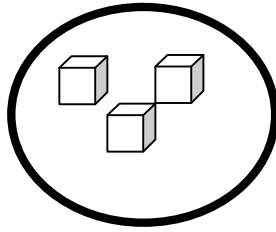
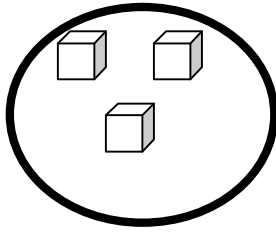
$$39 : 4 = \underline{\hspace{2cm}} \quad (\quad)$$

$$55 : 5 = \underline{\hspace{2cm}} \quad (\quad)$$

$$72 : 8 = \underline{\hspace{2cm}} \quad (\quad)$$



5) تمعّن في صورة التقسيم الآتية، ثم أكمل:-




$$\underline{\hspace{2cm}} : \underline{\hspace{2cm}} = \underline{\hspace{2cm}} \quad (\quad) \text{ والباقي}$$

6) حلّ بواسطة التوزيع بحسب المبني العشري:-

$$12 \times 4 = (\quad \times \quad) + (\quad \times \quad) = \underline{\hspace{2cm}}$$

$$17 \times 3 = (\quad \times \quad) + (\quad \times \quad) = \underline{\hspace{2cm}}$$

$$29 \times 2 = (\quad \times \quad) + (\quad \times \quad) = \underline{\hspace{2cm}}$$



(7) حلّ التمارين الآتية: -

$$\begin{array}{r} 13 \\ \times \\ \hline 60 \end{array}$$

$$\begin{array}{r} 35 \\ \times \\ \hline 15 \end{array}$$

$$\begin{array}{r} 60 \\ \times \\ \hline 21 \end{array}$$

$$\begin{array}{r} 27 \\ \times \\ \hline 28 \end{array}$$

$$\begin{array}{r} 55 \\ \times \\ \hline 43 \end{array}$$

$$\begin{array}{r} 2 \overline{) 23} \end{array}$$

$$\begin{array}{r} 4 \overline{) 92} \end{array}$$

$$\begin{array}{r} 2 \overline{) 82} \end{array}$$

$$\begin{array}{r} 5 \overline{) 93} \end{array}$$

$$\begin{array}{r} 4 \overline{) 25} \end{array}$$

$$\begin{array}{r} 9 \overline{) 15} \end{array}$$

8) حلّ المسائل الكلامية الآتية: -

أ- في مكتبة سامح 6 رفوف، وعلى كل رف 12 كتابًا.

كم كتابًا في مكتبة سامح؟

التمرين:


الجواب: _____

ب- في العلبة الواحدة 16 لوح شوكولاتة.

كم لوحًا في 5 عُلَب؟

التمرين:

الجواب: _____



ج- في السلة الواحدة 35 تفاحة.

كم تفاحة في 3 سلال؟

التمرين:

الجواب: _____

عملًا ممتعًا أتمناه لكم