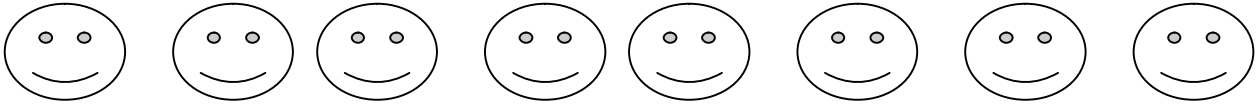


التاريخ:-----

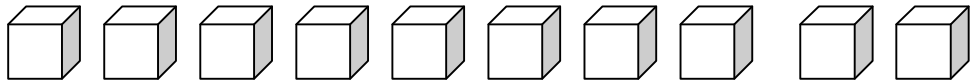
ورقة عمل للصف الأول

الاسم:-----

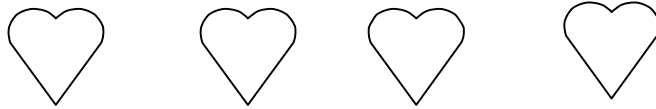
1) أ- أشطب الزائد حتى يبقى 6:-



ب- أشطب الزائد حتى يبقى 3:-



ج- أشطب الزائد حتى يبقى 3:-



2) حلّ التمارين الآتية:-

$$5 - 3 = \underline{\quad}$$

$$4 - \underline{\quad} = 2$$

$$7 - \underline{\quad} = 5$$

$$4 - 1 = \underline{\quad}$$

$$9 - 4 = \underline{\quad}$$

3) أ- كان مع رمزي 4 بطاقات. ربح في اللعبة 5 بطاقات.
كم بطاقة أصبح معه في نهاية اللعبة؟

ب- كان مع فريد 9 بطاقات. خسر في اللعبة 5 بطاقات.
كم بطاقة بقيت معه في نهاية اللعبة؟

ج- في الملعب 10 تلاميذ، 7 منهم صبيان، والباقيون بنات.
كم بنتاً في الملعب؟

د- مع نور 9 أقلام رصاص، ومع نديم 3 أقلام حبر.
من معه أدوات كتابة أكثر؟

هـ- مع عبير 8 أقلام، ومع سعاد 5 ألام.
كم قلمًا مع عبير أكثر مما مع سعاد؟