

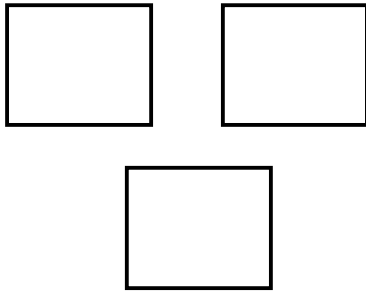
الاسم: _____

القسمة كتقسيم

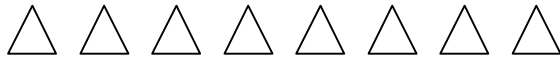
التاريخ: _____

للف الثالث

التقسيم هو تجزئة مجموعة بالتساوي
إلى مجموعات جزئية

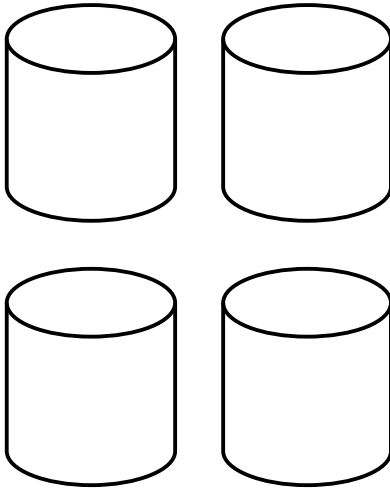


1) عليك أن توزع 15 مثلثا إلى 3 مجموعات بالتساوي:-




* في كل مجموعة نضع _____ مثلثا.

* التمرين الملائم هو: _____ ÷ _____ = _____





2) رتب 20 زرا في 4 علب بالتساوي:-



* في كل علبة نضع _____ أزرار.

* التمرين الملائم هو: _____ ÷ _____ = _____

3) وزع 18 ش"ج على 3 أولاد بالتساوي:-



* كل ولد يحصل على _____ شواقل.

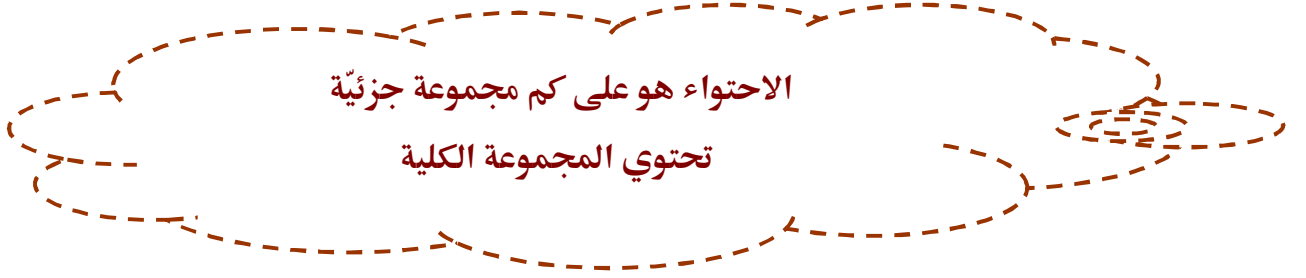
* التمرين الملائم هو: _____ ÷ _____ = _____

الاسم: _____

القسم: الاحتوائية

التاريخ: _____

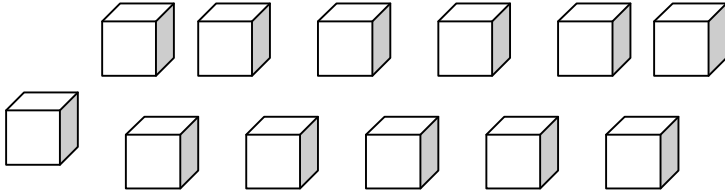
للف الثالث



1) حوِّط مجموعات تحتوي على 4 مكعبات.

* على كم مجموعة 4 حصلت؟ _____ مجموعات.

* التمرين الملائم هو: _____ = _____ \div 12




2) أرسم 21 تفاحة. أعط لكل ولد 7 تفاحات. (حوِّط مجموعات 7)



* كم ولدًا يوجد؟ _____ أولاد.

* التمرين الملائم هو: _____ = _____ \div _____





3) أمامك 24 قرصا. كوّن منها مجموعات 8.



* على كم مجموعة 8 حصلت؟

* التمرين الملائم هو: _____ = _____ \div _____