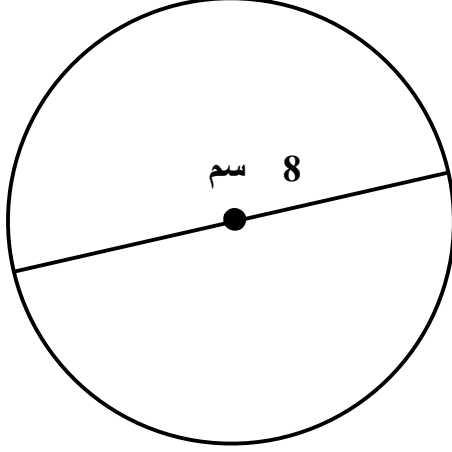


الاسم: \_\_\_\_\_

## اختبار للصف السادس

### في "محيط ومساحة الدائرة"



1) أَمَامَكَ الدائِرَةُ الآتِيَةُ: -

أ- جِدْ مَحِيط الدائِرَةِ

ب- جِدْ مَسَاحَةَ الدائِرَةِ

2) أَكْتُبْ كَلِمَةَ "صَوَاب" أَوْ "خَطَأ" ثُمَّ صَحِّحِ الخَطَأَ: -

\_\_\_\_\_ - جَمِيعُ أَوْتَارِ الدائِرَةِ هِيَ أَيْضًا أَقْطَارٌ فِيهَا:

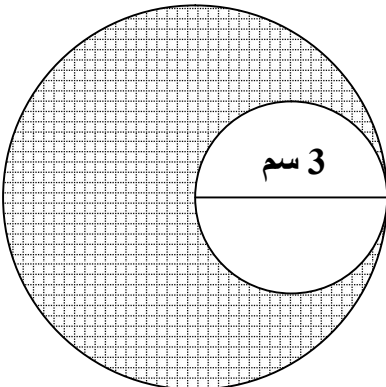
\_\_\_\_\_ - جَمِيعُ أَقْطَارِ الدائِرَةِ هِيَ مَحَاوِرٌ تَمَاطِلٌ فِيهَا:

\_\_\_\_\_ - جَمِيعُ أَوْتَارِ الدائِرَةِ تَلْتَقِي فِي نَقْطَةٍ وَاحِدَةٍ هِيَ مَرْكَزُ الدائِرَةِ:

\_\_\_\_\_ - جَمِيعُ أَقْطَارِ الدائِرَةِ مَتَسَاوِيَةٌ:

3) قَطْرُ الدائِرَةِ الصَّغِيرَةِ هُوَ نِصْفُ قَطْرِ الدائِرَةِ الكَبِيرَةِ.

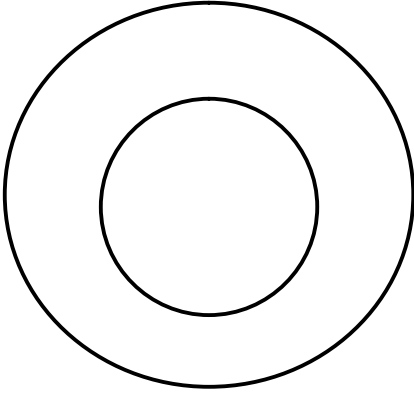
جِدْ المساحة الملونة: -



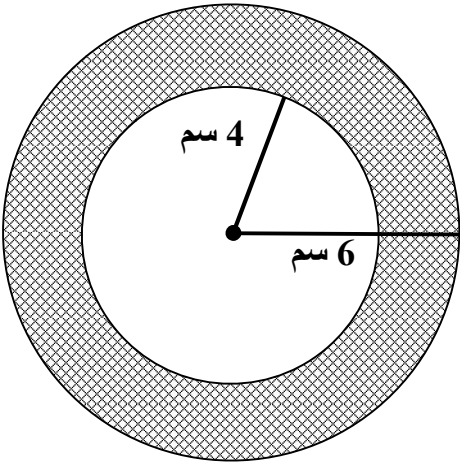
4) أمامك دائرتان:-

أ- لون محيط الدائرة الكبيرة بالأحمر.

ب- لون مساحة الدائرة الصغيرة بالأزرق.



5) جد مساحة الحلقة:-



6) جد مساحة الشكل الآتي:-

