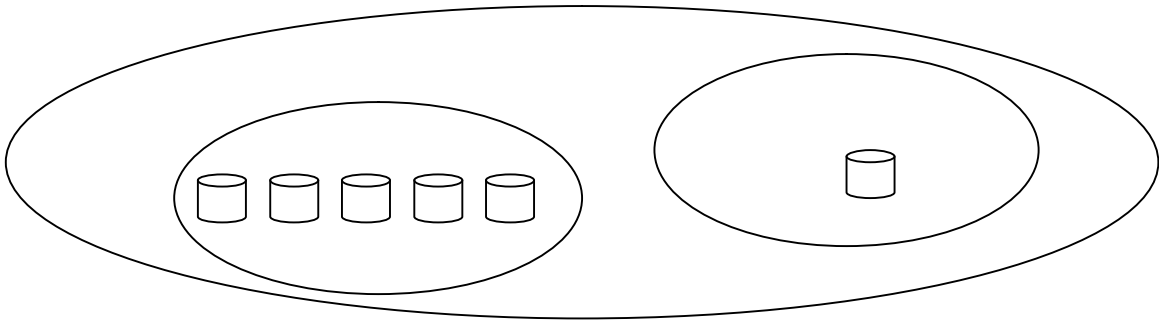
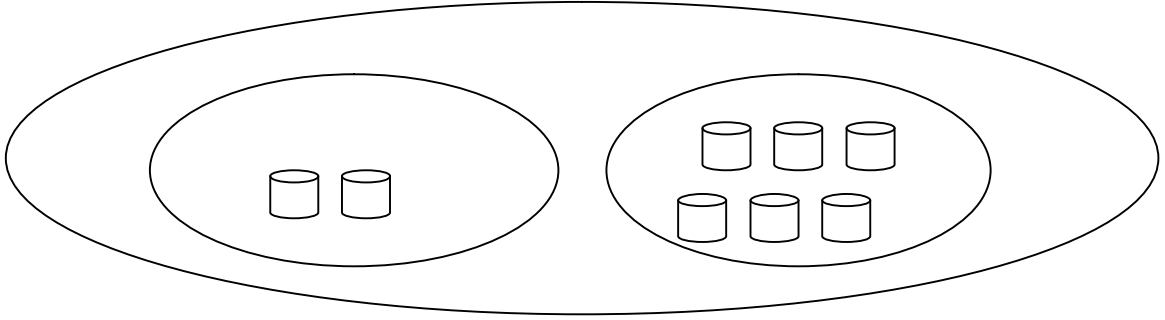
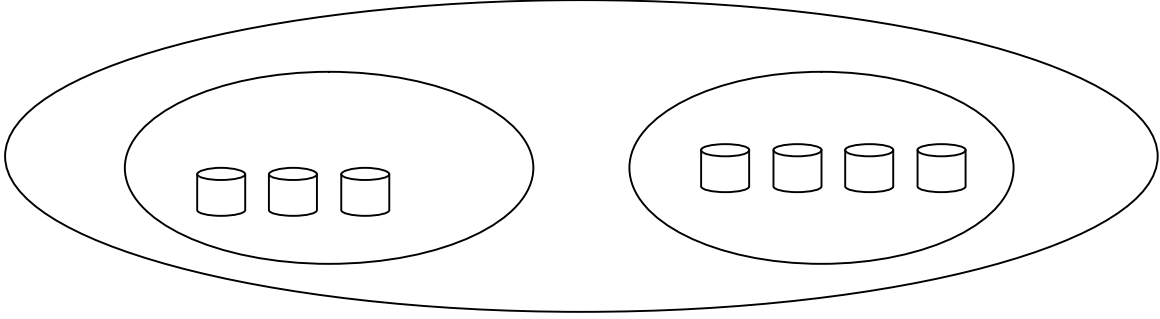


التاريخ: -----

## أوراق عمل للصف الأول

الاسم: -----

1) أكتب تمرينًا ملائمًا لكلِّ رسمة:-



(2) حلّ التمارين الآتية:-

$$6 = 3 + \underline{\quad}$$

$$8 = \underline{\quad} + 5$$

$$2 + 6 = \underline{\quad}$$

$$7 + 3 = \underline{\quad}$$

$$9 = 3 + \underline{\quad}$$

$$7 = \underline{\quad} + 3$$

$$4 + 5 = \underline{\quad}$$

$$8 + 2 = \underline{\quad}$$

$$5 = 1 + \underline{\quad}$$

$$8 = \underline{\quad} + 4$$

$$1 + 7 = \underline{\quad}$$

$$6 + 3 = \underline{\quad}$$

$$3 = 3 + \underline{\quad}$$

$$10 = \underline{\quad} + 10$$

$$5 + 3 = \underline{\quad}$$

$$0 + 8 = \underline{\quad}$$