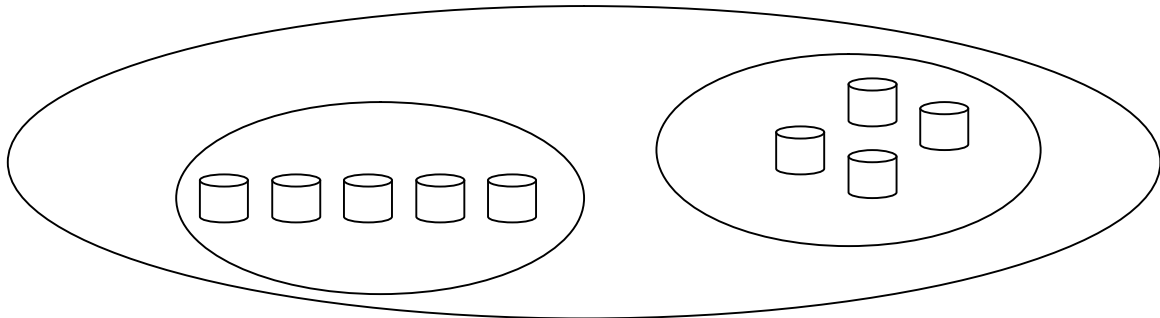
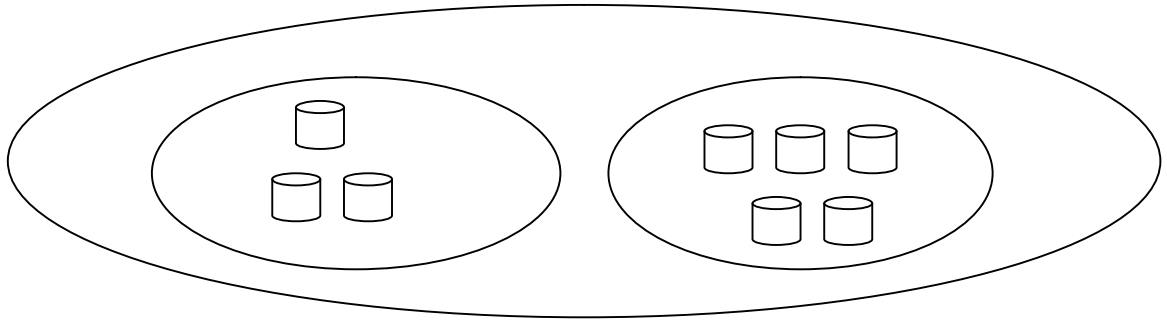
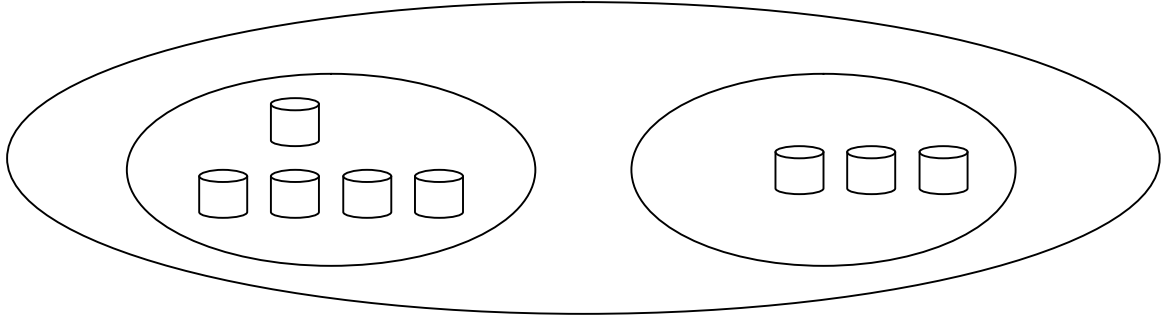


التاريخ: -----

أوراق عمل للصف الأول

الاسم: -----

1) أكتب تمرينًا ملائمًا لكلّ رسمة:-



(2) حلّ التمارين الآتية:-

$$13 = 3 + \underline{\quad}$$

$$11 = \underline{\quad} + 5$$

$$9 + 5 = \underline{\quad}$$

$$2 + 9 = \underline{\quad}$$

$$20 = 3 + \underline{\quad}$$

$$15 = \underline{\quad} + 4$$

$$4 + 7 = \underline{\quad}$$

$$8 + 4 = \underline{\quad}$$

$$15 = 1 + \underline{\quad}$$

$$12 = \underline{\quad} + 6$$

$$7 + 7 = \underline{\quad}$$

$$6 + 8 = \underline{\quad}$$

$$9 = 9 + \underline{\quad}$$

$$20 = \underline{\quad} + 12$$

$$8 + 8 = \underline{\quad}$$

$$0 + 10 = \underline{\quad}$$