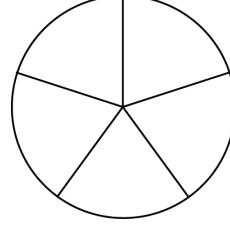
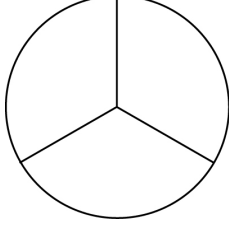


ورقة عمل رقم (4)

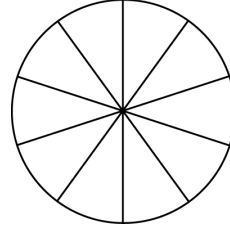
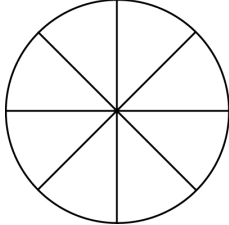
1) لَوّن ثم أكتب الكسر في المربع بالأرقام والكلمات:-

1.



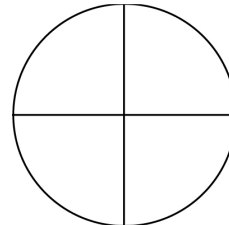
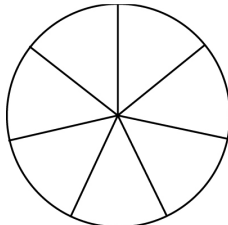
4.

2.




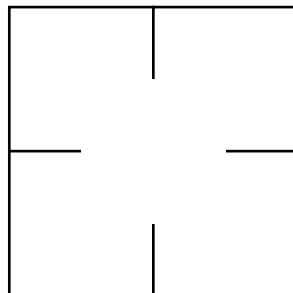
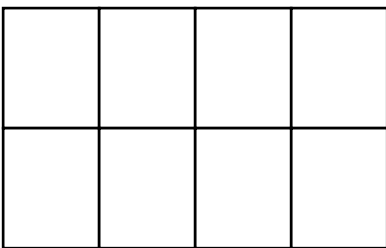
5.

3.

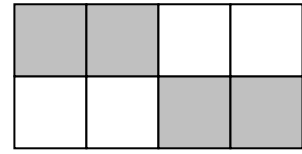
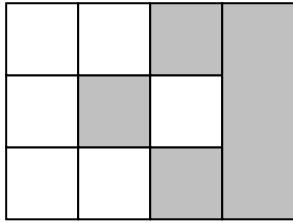


6.

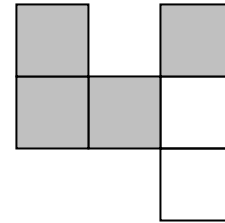
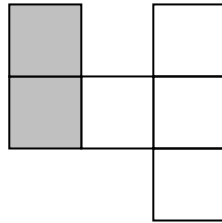
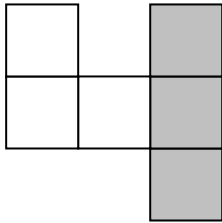
2) لَوّن الكسر $\frac{1}{4}$ في كل شكل من الأشكال الآتية:-



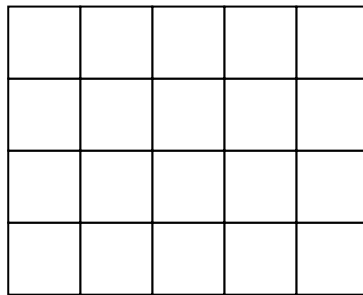
(3) أخط الأشكال الذي يظهر فيها الكسر $\frac{1}{2}$:-



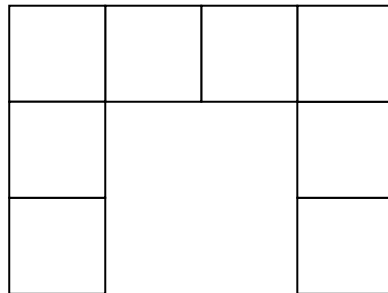
(4) أخط الشكل الذي يظهر فيه الكسر $\frac{1}{3}$:-



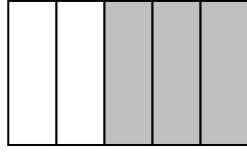
(5) أ- لوّن $\frac{2}{5}$ الشكل الآتي :-



ب- لوّن $\frac{3}{4}$ الشكل الآتي :-



ورقة عمل رقم (5)

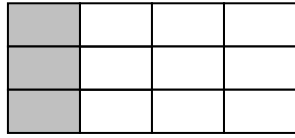


أ- الجزء الملون من الشكل هو:-

ج- $\frac{2}{5}$

ب- $\frac{5}{3}$

أ- $\frac{3}{5}$

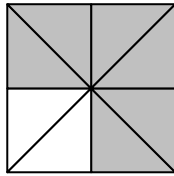


ب- الجزء الملون من الشكل هو:-

ج- $\frac{1}{3}$

ب- $\frac{9}{12}$

أ- $\frac{1}{4}$

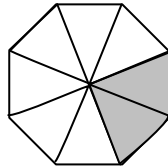


ج- الجزء الملون من الشكل هو:-

ج- $\frac{2}{8}$

ب- $\frac{3}{4}$

أ- $\frac{1}{4}$




د- الجزء الملون من الشكل هو:-

ج- $\frac{1}{4}$

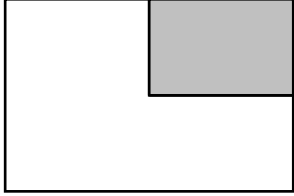
ب- $\frac{6}{8}$

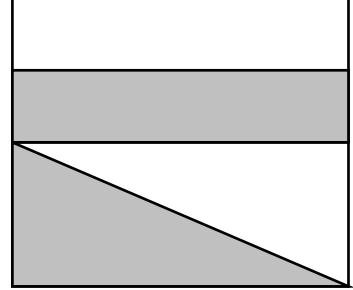
أ- $\frac{8}{8}$

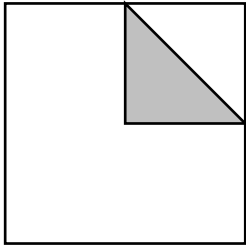


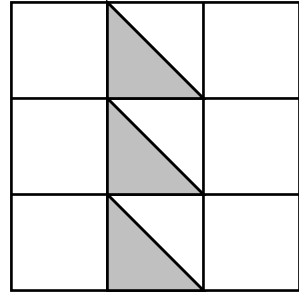
ورقة عمل رقم (6)

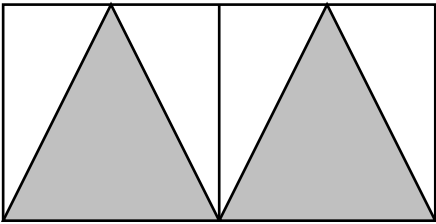
أكتب الكسر الذي يدلّ على الجزء المظلل من كل شكل مما يلي:-

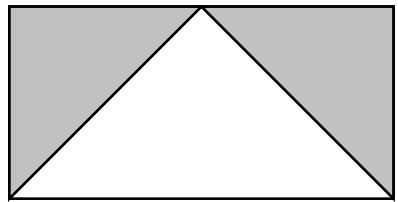


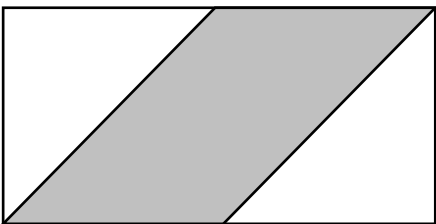


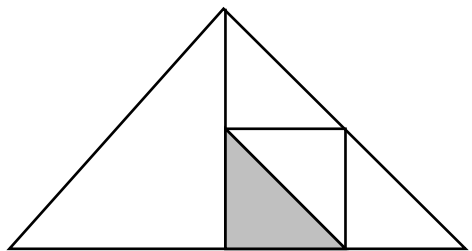






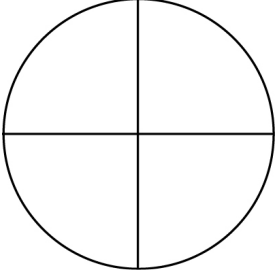




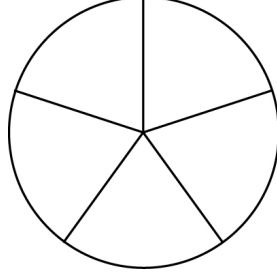


ورقة عمل رقم (7)

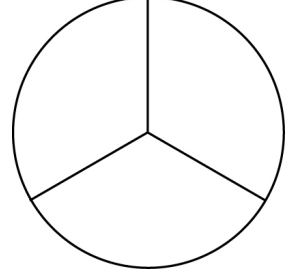
(1) لون الجزء الذي يدلّ عليه الكسر المكتوب تحت كلّ شكل :-




$$\frac{3}{4}$$



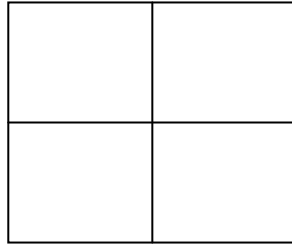
$$\frac{3}{5}$$



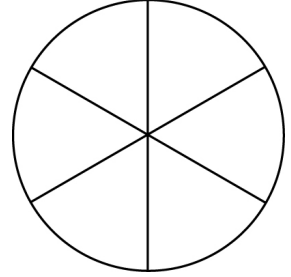
$$\frac{2}{3}$$



$$\frac{4}{6}$$

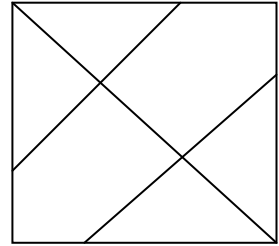




$$\frac{1}{2}$$



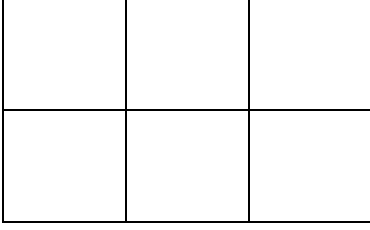


$$\frac{1}{3}$$

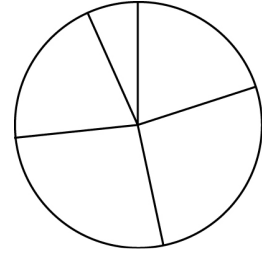
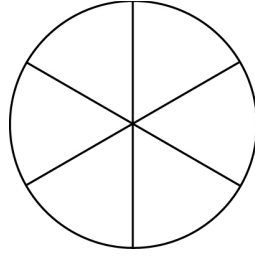
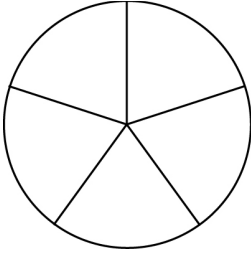
(2) لون $\frac{5}{6}$ في الشكل المناسب :-



(3) لون $\frac{1}{3}$ في الأشكال المناسبة:-



(4) لون $\frac{3}{5}$ في الشكل المناسب:-



شعري شلال ..
«والكلبة» عال العالم ..

(5) أرسم ولون لتعبّر عن كل كسر:-

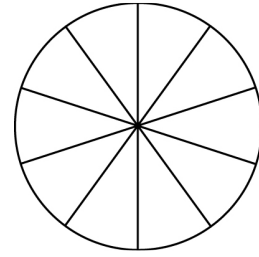
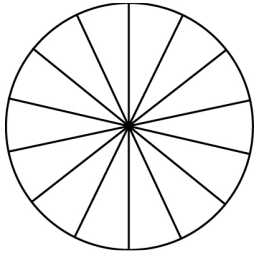
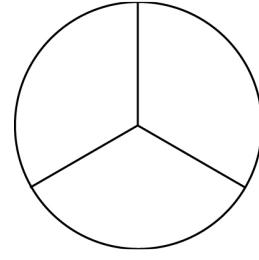
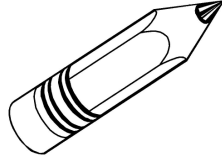
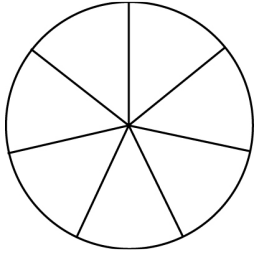


أرسم داخل الإطار الكسر $\frac{5}{3}$

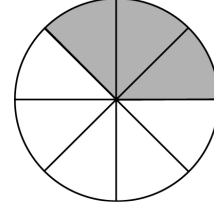
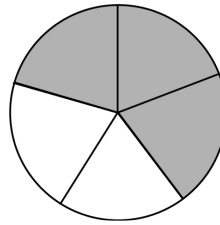
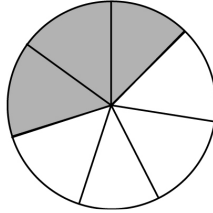
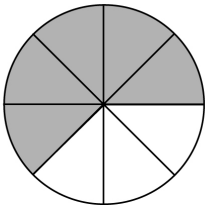


أرسم داخل الإطار الكسر $\frac{3}{5}$


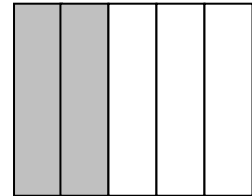
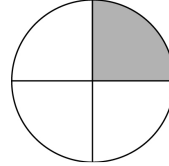
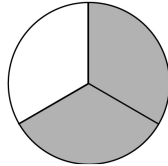

(6) لون الكسر $\frac{3}{7}$ في الدوائر الملائمة:-

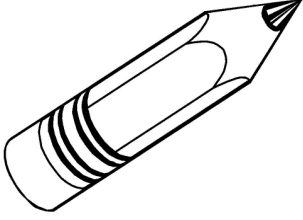


(7) أخط الدائرة التي فيها الجزء الملون هو $\frac{3}{5}$:-

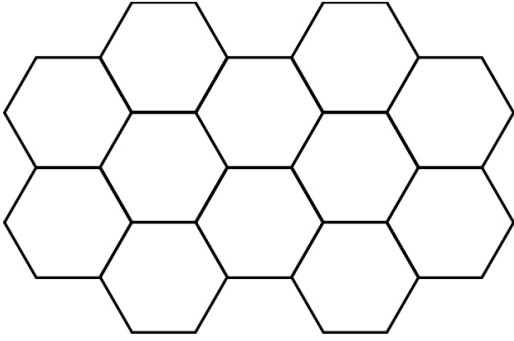


(8) في أي من الأشكال الآتية الجزء الملون هو $\frac{2}{5}$:-

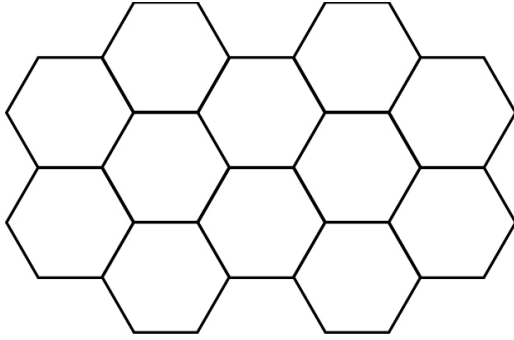




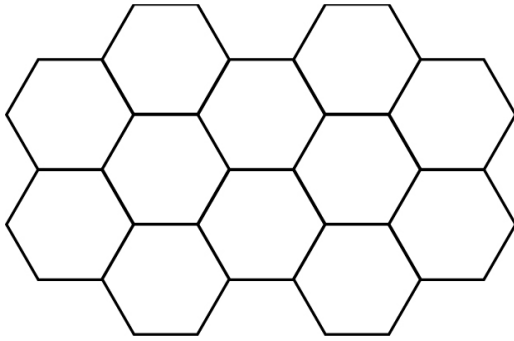
ورقة عمل رقم (8)



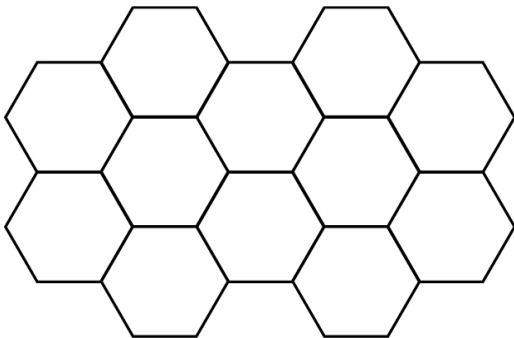
1) أ- لون $\frac{1}{2}$ الشكل الذي أمامك:-



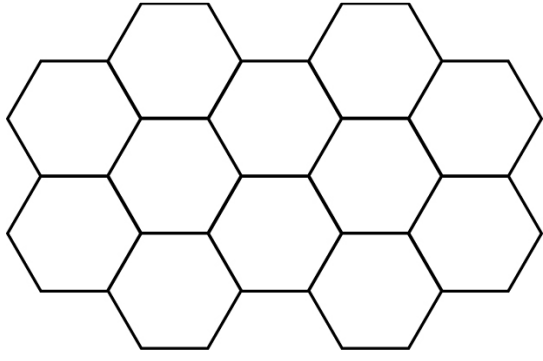
ب- لون $\frac{1}{3}$ الشكل الذي أمامك:-



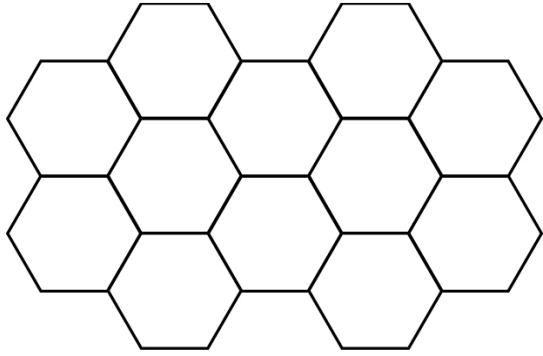
ج- لون $\frac{2}{3}$ الشكل الذي أمامك:-



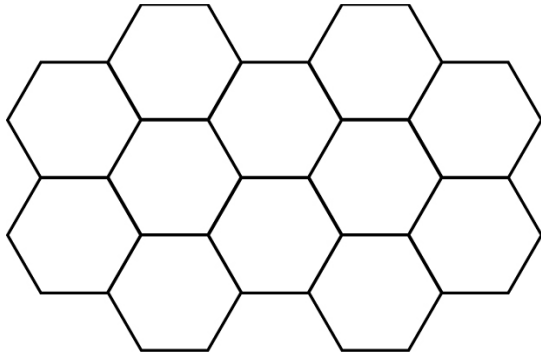
د- لون $\frac{1}{4}$ الشكل الذي أمامك:-



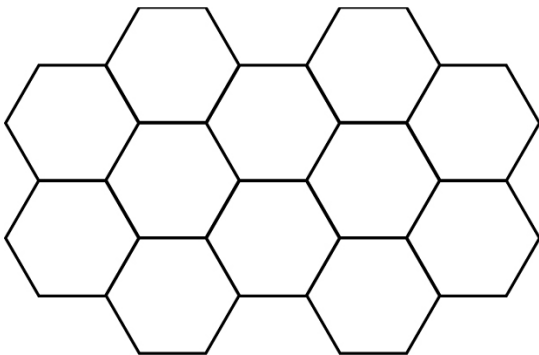
هـ- لوّن $\frac{3}{4}$ الشكل الذي أمامك:-




و- لوّن $\frac{1}{6}$ الشكل الذي أمامك:-



ز- لوّن $\frac{2}{6}$ الشكل الذي أمامك:-


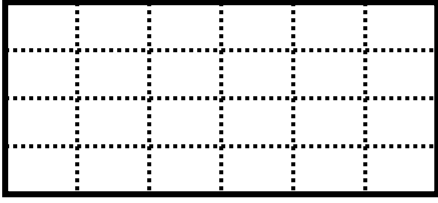


ح- لوّن $\frac{4}{6}$ الشكل الذي أمامك:-

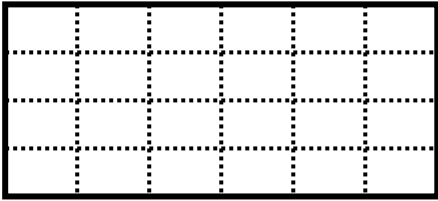


ألواني .. أحلى الألوان ..
أين الرسام الفخمان ..

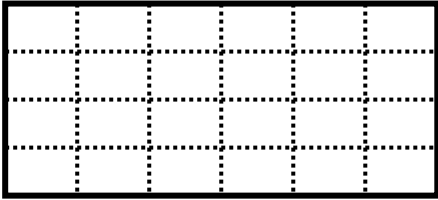
2) أ- لون $\frac{1}{2}$ الشكل الذي أمامك:-



ب- لون $\frac{1}{3}$ الشكل الذي أمامك:-



ج- لون $\frac{1}{4}$ الشكل الذي أمامك:-



د- لون $\frac{2}{6}$ الشكل الذي أمامك:-

