

التاريخ: _____

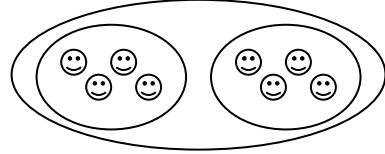
الاسم: _____

إختبار تشخيص للصف الأول/الثاني

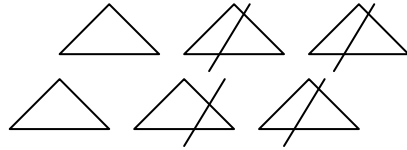
في معرفة عمليتي الجمع والطرح

1- أكتب تمرينًا ملائمًا لكل رسمة: -

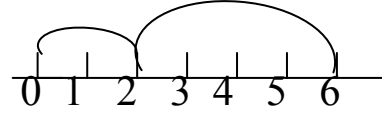
التمرين: _____



التمرين: _____



التمرين: _____



$$11 - 4$$

2- ارسم رسماً ملائماً للتمرين

$$9 + 7$$

3- ارسم رسماً ملائماً للتمرين

4- حل التمارين الآتية: -

$$7 + 4 = \underline{\quad}$$

$$6 + 5 = \underline{\quad}$$

$$6 + 8 = \underline{\quad}$$

$$8 + 5 = \underline{\quad}$$

$$9 + 8 = \underline{\quad}$$

$$4 + 6 = \underline{\quad}$$

$$12 - 6 = \underline{\quad}$$

$$18 - 9 = \underline{\quad}$$

$$11 - 7 = \underline{\quad}$$

5- جد نتيجة كل تمرين :-

$17 + 3 = \underline{\quad}$

$29 + 1 = \underline{\quad}$

$15 - 5 = \underline{\quad}$

$20 - 1 = \underline{\quad}$

$20 + 30 = \underline{\quad}$

$12 + 13 = \underline{\quad}$

$9 + 1 + 12 = \underline{\quad}$

$$\begin{array}{r} + 25 \\ 36 \\ \hline \end{array}$$

$$\begin{array}{r} + 9 \\ 15 \\ \hline \end{array}$$

$$\begin{array}{r} + 24 \\ 45 \\ \hline \end{array}$$

$$\begin{array}{r} + 27 \\ 2 \\ \hline \end{array}$$

$$\begin{array}{r} - 24 \\ 18 \\ \hline \end{array}$$

$$\begin{array}{r} - 15 \\ 8 \\ \hline \end{array}$$

$$\begin{array}{r} - 26 \\ 12 \\ \hline \end{array}$$

$$\begin{array}{r} - 18 \\ 3 \\ \hline \end{array}$$

6- أكتب تمارين مختلفة من الأعداد: 10 , 4 , 6

7- أكتب أعداداً ملائمة :-

$6 + 4 = 5 + \square$

$8 + 3 > \square$

$7 + 2 > 7 + \square$

$15 - 7 < \square$

$12 - 7 < 12 - \square$

8- حل التمارين الآتية :-

1) $50 - \square = 49$

2) $63 + \square = 73$

3) $\square - 14 = 6$

4) $85 - \square = 80$

9- أكتب إشارة + أو - في الجمل الآتية :-

$15 \bigcirc 5 = 20$

$28 \bigcirc 12 = 40$

$75 \bigcirc 5 = 70$

10- أكتب إشارة < ، > أو = :-

$25 + 7 \bigcirc 25 - 7$

$18 - 5 \bigcirc 18 - 9$

$25 + 3 \bigcirc 25 + 19$

$38 \bigcirc 30 + 8$

11- حلّ المسائل الآتية :-

أ) اشترى فارس 16 بيضة. كسر 7 بيضات منها في الطريق. كم بيضة بقيت مع فارس؟

التمرين

الجواب

ب) يوجد في الباص 28 راكبًا، في المحطة الاولى صعد 7 رُكَّاب وفي المحطة الثانية صعد

3 رُكَّاب. كم راكبًا يوجد الآن في الباص؟

التمرين

الجواب

ج) في المقلّمة 9 أقلام رصاص و 5 أقلام حبر و 30 قلم تلوين.

كم عدد جميع الأقلام التي في المقلّمة؟

التمرين

الجواب