
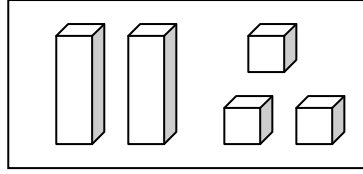
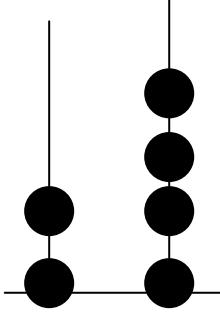


الاسم: _____

امتحان مستوى للصف الثاني

القسم الأول: الأعداد الطبيعية

(1) أكتب العدد الملائم لكل صورة:-



(2) أكتب العدد 13 بالكلمات: _____

(3) أكتب العدد أربعة وعشرون بالأرقام: _____

(4) ضع دائرة حول رقم العشرات في كل عدد:- 60 25

(5) ضع دائرة حول رقم الآحاد في كل عدد:- 87 30

(6) عد وأكتب الأعداد من 38 حتى 47:- _____

7) أكتب العدد الناقص:-

$$28 = \underline{\quad\quad} + 20$$

$$4 + \underline{\quad\quad} = 24$$

$$\underline{\quad\quad\quad} = 8 \text{ أحاد} + 2 \text{ عشرات}$$

$$\underline{\quad\quad\quad} = 6 \text{ عشرات} + 2 \text{ أحاد}$$

8) كم وحدة في العدد 12؟

9) كم عشرة في العدد 40؟

10) رتب الأعداد الآتية من الأكبر إلى الأصغر:-

43 14 24 42

الأصغر

الأكبر

11) ضع إشارة < ، > أو = بين كل مقدارين:-

5 عشرات + 3 وحدات 53

خمسة وعشرون 52

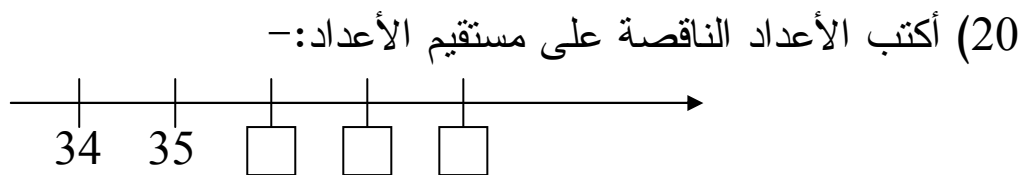
2 + 30 3 + 20

21 وحدة 21 عشرة

3 عشرات + 2 أحاد 3 أحاد + 2 عشرات

- (12) أكتب العدد السابق للعدد 30 :- _____
- (13) أكتب العدد التالي للعدد 49 :- _____
- (14) أكتب عددًا أكبر من 12 بـ 5 :- _____
- (15) أكتب عددًا أصغر من 17 بـ 8 :- _____
- (16) أكتب عددًا يقع بين 20 و 30 ورقم أحاده 5 :- _____
- (17) أكتب عددًا ثنائي المنزلة رقم أحاده 2 :- _____
- (18) أكتب عددًا ثنائي المنزلة رقم أحاده أكبر من رقم عشراته :-

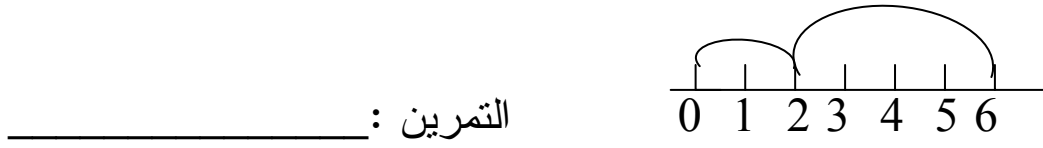
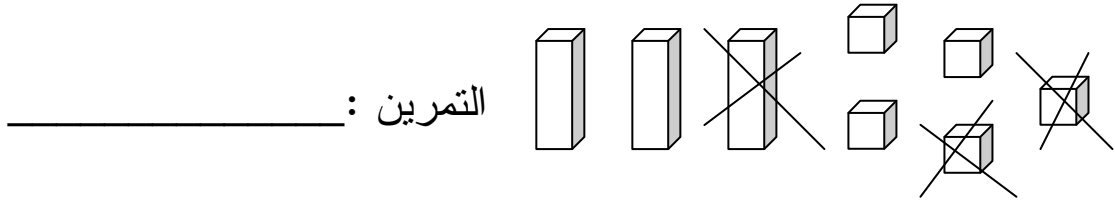
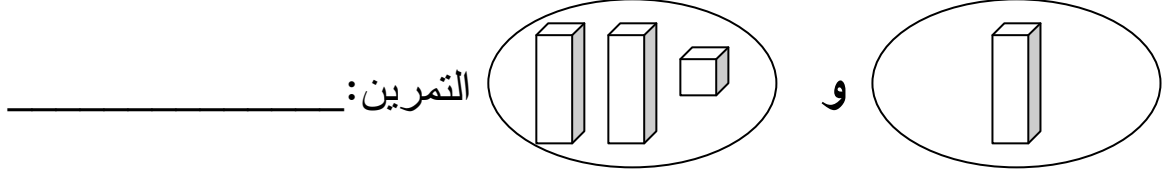
- (19) أكتب الأعداد الناقصة في كل متوالية :-
19 , 18 , 17 , _____ , _____ , _____
_____ , _____ , _____ , 32 , 33 , 34 , _____ , _____



- (21) أكتب العدد الناقص لتصح الإشارة :-
17 < _____ < 17

القسم الثاني: العمليات الحسابية (الجمع والطرح)

1) اكتب تمرينًا ملائمًا لكل رسمة:-



2) ارسم رسمًا ملائمًا للتمرين $12 + 7$

(3) حل التمارين الآتية:-

$8 + 9 = \underline{\quad}$	$13 + \underline{\quad} = 20$	$1 + 29 = \underline{\quad}$
$9 + 9 = \underline{\quad}$	$\underline{\quad} + 10 = 15$	$\underline{\quad} + \underline{\quad} = 45$

$$\begin{array}{r} + 25 \\ 36 \\ \hline \end{array}$$

$$\begin{array}{r} + 9 \\ 15 \\ \hline \end{array}$$

$$\begin{array}{r} + 24 \\ 45 \\ \hline \end{array}$$

$$\begin{array}{r} + 27 \\ 2 \\ \hline \end{array}$$

$$\begin{array}{r} - 24 \\ 18 \\ \hline \end{array}$$

$$\begin{array}{r} - 15 \\ 8 \\ \hline \end{array}$$

$$\begin{array}{r} - 26 \\ 12 \\ \hline \end{array}$$

$$\begin{array}{r} - 18 \\ 3 \\ \hline \end{array}$$

(4) اكتب تمارين مختلفة من الأعداد: 10 , 4 , 6

(5) اكتب أعدادًا ملائمة:-

$$6 + 4 = 5 + \square$$

$$8 + 3 > \square$$

$$7 + 2 > 7 + \square$$

$$15 - 7 < \square$$

$$12 - 7 < 12 - \square$$

(6) حل التمارين الآتية:-

1) $50 - \square = 49$

2) $63 + \square = 73$

3) $\square - 14 = 6$

4) $85 - \square = 80$

(7) اكتب إشارة + أو - في الجمل الآتية:-

$15 \bigcirc 5 = 20$

$28 \bigcirc 12 = 40$

$75 \bigcirc 5 = 70$

(8) اكتب إشارة < ، > أو = :-

$25 + 7 \bigcirc 25 - 7$

$18 - 5 \bigcirc 18 - 9$

$25 + 3 \bigcirc 25 + 19$

$38 \bigcirc 30 + 8$

(9) حل المسائل الآتية:-

أ) اشترى رامي 15 بيضة. كسر منها في الطريق 8 بيضات.
كم بيضة بقيت معه؟

التمرين

الجواب

ب) يوجد في الباص 28 راكبًا، في المحطة الأولى صعد 7 ركاب وفي
المحطة الثانية صعد 3 ركاب.
كم راكبًا يوجد الآن في الباص؟

التمرين

الجواب

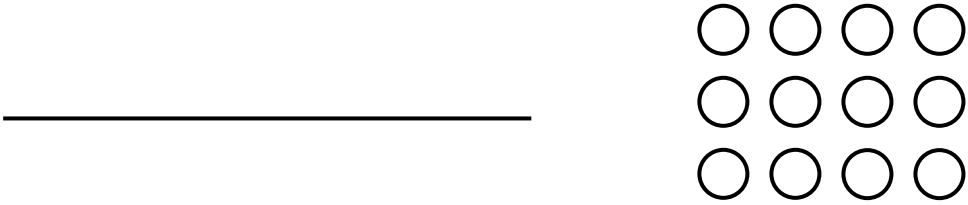
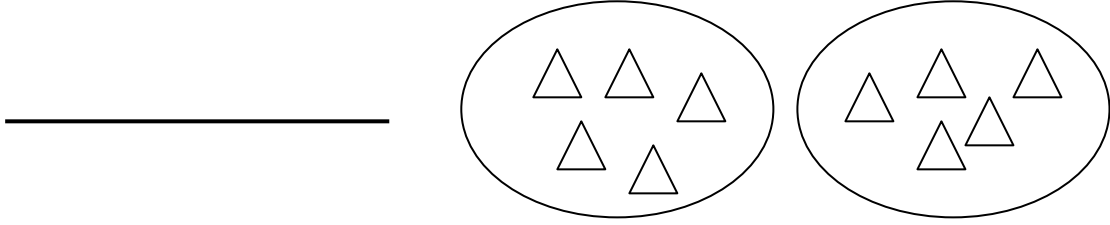
ج) في المقلمة 9 أقلام رصاص و 5 أقلام حبر و 30 قلم تلوين.
كم عدد جميع الأقلام التي في المقلمة؟

التمرين

الجواب

القسم الثالث: العمليات الحسابية (الضرب)

1) أكتب تمرين ضرب ملائم:-



_____ $3 + 3 + 3$

_____ 4 مجموعات 1

2) أكتب < ، > أو = :-

3×7 _____ 3×2

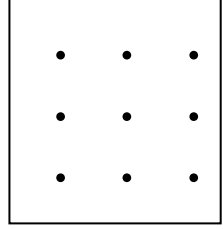
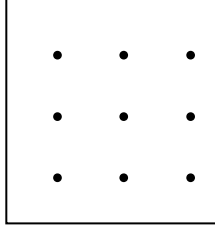

3×4 _____ 4×3

2×1 _____ $2 \times 1 \times 1$

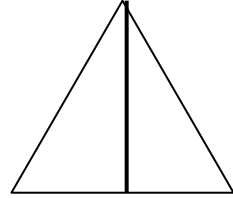
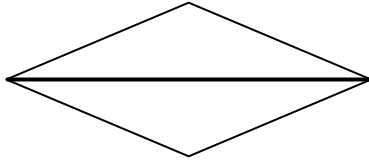
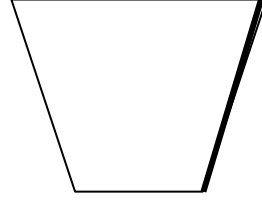
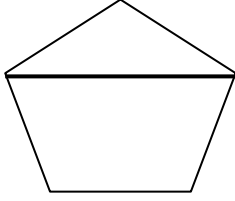
20 _____ 4 مرّات 5

القسم الرابع: الهندسة

(1) أرسم 3 مضلعات مختلفة وأكتب اسم كل واحد منها:-



(2) أحط المضلع الذي فيه القطعة المشددة هي قطر:-



(3) أكتب ما اسم الشكل الآتي: _____

