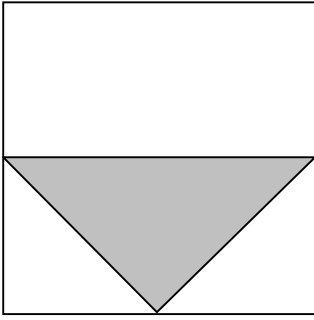


التاريخ:-----

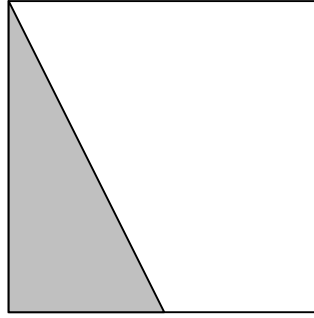
الاسم:-----

اختبار للصف الخامس  
في الكسر كجزء من 1 صحيح

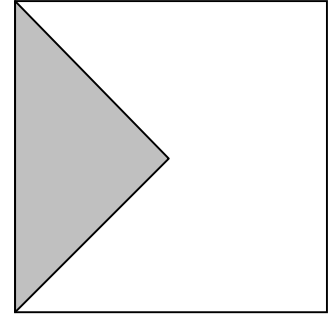
1) أي جزء من مساحة المربع ملون؟



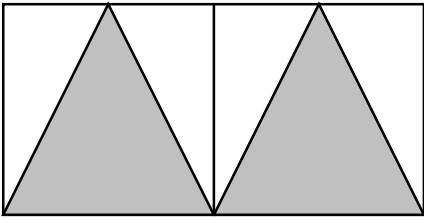
\_\_\_\_\_



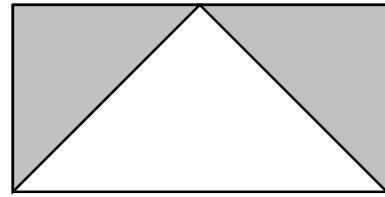
\_\_\_\_\_



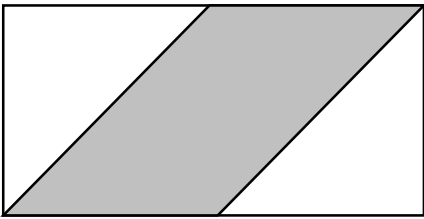
\_\_\_\_\_



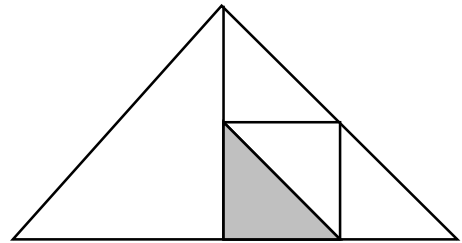
\_\_\_\_\_



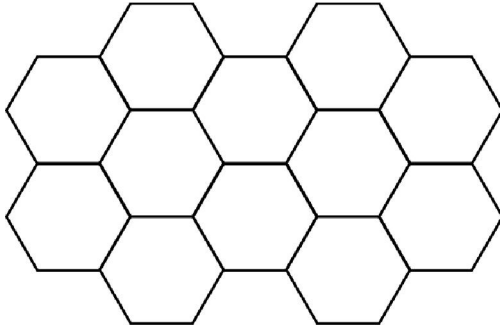
\_\_\_\_\_



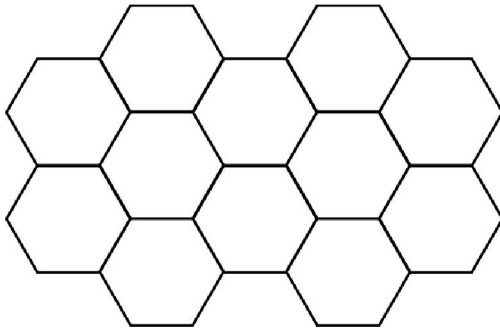
\_\_\_\_\_



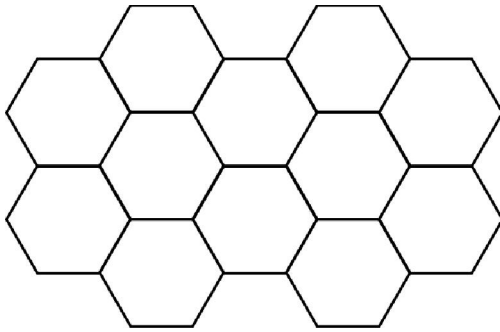
\_\_\_\_\_



2) أ- لوّن  $\frac{1}{2}$  الشكل الذي أمامك:-



ب- لوّن  $\frac{1}{3}$  الشكل الذي أمامك:-



ج- لوّن  $\frac{3}{4}$  الشكل الذي أمامك:-

3) دهن سامر وعامر حائطًا مشتركًا.

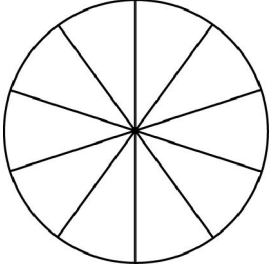
دهن سامر  $\frac{2}{6}$  الحائط ودهن عامر  $\frac{1}{3}$  الحائط.

هل دهننا معًا كل الحائط؟

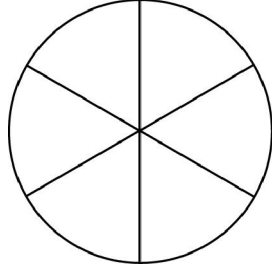
إذا كان الجواب نعم، اشرح: \_\_\_\_\_

إذا كان الجواب كلا، فأَي جزء بقي من الحائط بدون دهان؟ \_\_\_\_\_

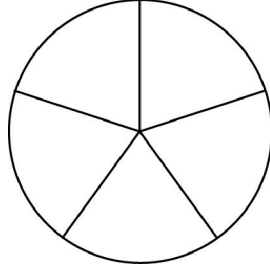
4) لون الجزء الذي يدلّ عليه الكسر المكتوب تحت كلّ شكل:-



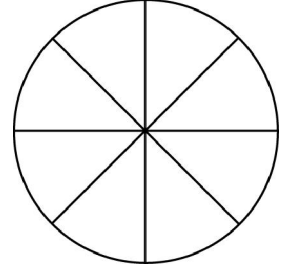
$$\frac{3}{5}$$



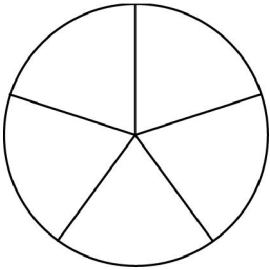
$$\frac{2}{3}$$



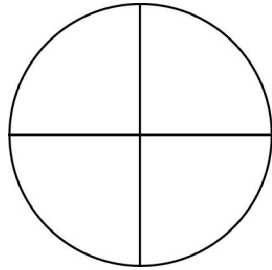
$$\frac{5}{5}$$



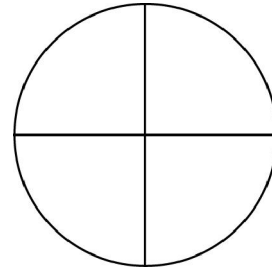
$$\frac{1}{4}$$




$$\frac{1}{10}$$



$$\frac{3}{12}$$



$$\frac{2}{8}$$



$$\frac{1}{4}$$

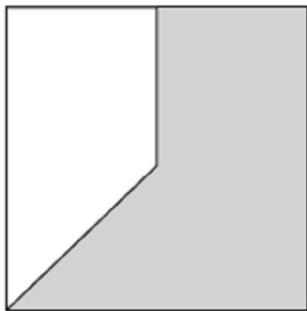
5) أي جزء من المربع ملون؟ أعط الإجابة الصحيحة:-

أ- أقل من  $\frac{1}{4}$  المربع.

ب- أكثر من  $\frac{3}{4}$  المربع.

ج- أكثر من  $\frac{1}{4}$  المربع وأقل من  $\frac{1}{2}$  المربع.

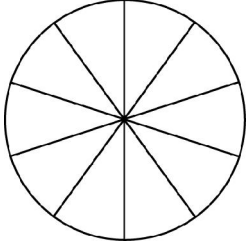
د- أكثر من  $\frac{1}{2}$  المربع وأقل من  $\frac{3}{4}$  المربع.



6) حلّ المسائل الكلامية الآتية:-

ملاحظة: بإمكانك استخدام الرسم في الحل.

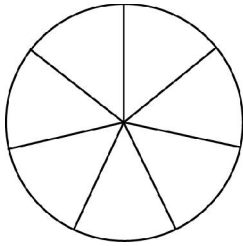
أ- اشترت صفاء كيس سكر لصنع كعكة.



استعملت صفاء  $\frac{7}{10}$  كيس السكر في صنع الكعكة.

أيّ جزء من الكيس بقي لديها؟

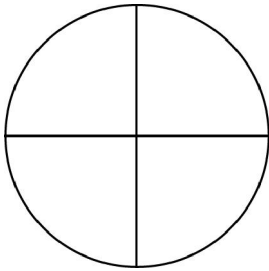
الجواب: \_\_\_\_\_



ب- غرس طلاب الصف الخامس النباتات في حديقة المدرسة.

$\frac{4}{7}$  النباتات ماتت. أيّ جزء من النباتات عاشت؟

الجواب: \_\_\_\_\_

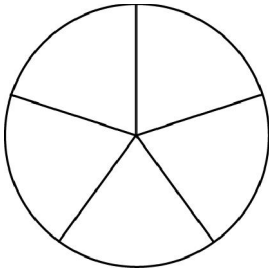


ج- قرأ وسيم  $\frac{1}{4}$  القصة يوم الاثنين.

واليوم أكمل قراءة ما تبقى من القصة.

أيّ جزء من القصة قرأ وسيم اليوم؟

الجواب: \_\_\_\_\_



د- قرأت سعاد  $\frac{3}{5}$  قصة القنديل الصغير يوم السبت.

ويوم الأحد أكملت قراءة ما تبقى من القصة.

أيّ جزء من القصة قرأت سعاد يوم الأحد؟

الجواب: \_\_\_\_\_