


## مراجعات للصف الثالث

### في الأعداد الطبيعيّة والعمليّات الحسابيّة

الصف والشعبة: \_\_\_\_\_

اسم الطالب: \_\_\_\_\_



مع تمنياتي لكم بالنجاح المتفوّق

**القسم الاول: معرفة الأعداد الطبيعية (40 علامة)**

(1) العدد 206 بالكلمات هو:-

(أ) عشرون وستة (ب) مئتان وستة (ج) ست مئة وإثنان

---

(2) العدد مئتان وخمسون بالأرقام:-

(أ) 20050 (ب) 502 (ج) 250

---

(3) أكمل الأعداد الناقصة في كل متوالية:-

554 , 556 , \_\_\_\_\_ , \_\_\_\_\_ , 562 , 564

---

(4) اكتب رقم العشرات في العدد 629 ؟ \_\_\_\_\_

---

(5) قيمة الرقم 2 في العدد 592 هي:-

(أ) 2 (ب) 20 (ج) 200

---

(6) في أي منزلة يقع الرقم 5 في العدد 3574

(أ) أحاد (ب) عشرات (ج) مئات

---

(7) أكتب الاسم الموسع للعدد 630

---

8) أكتب الاسم البسيط:-

$$5 + 3 \text{ عشرات} + 8 \text{ مئات} = \underline{\hspace{2cm}}$$

$$600 + 7 \text{ أحاد} + 12 \text{ عشرة} = \underline{\hspace{2cm}}$$

---

9) أكتب 3 أعداد تقع على القطعة المشددة على مستقيم الأعداد:-



10) رتب الأعداد الآتية من الأكبر إلى الأصغر:-

524      612      542      621

الأصغر      \_\_\_\_\_      \_\_\_\_\_      \_\_\_\_\_      الأكبر

---

11) أكتب أعداد ملائمة:-

أ) عدد بين 936 و 942      \_\_\_\_\_

ب) عدد رقم أحاده أكبر من رقم عشراته بـ 4      \_\_\_\_\_

ج) العدد التالي للعدد 549      \_\_\_\_\_

د) العدد السابق للعدد 300      \_\_\_\_\_

12) أكتب >, < أو = :-

403	_____	ثلاثة مئة وأربعون
5+108	_____	108+5
508+470	_____	270+208
20+9	_____	920
مئة ثلاثة وخمسون	_____	5+130
200+6	_____	200-6

13) ضع إشارة ملائمة +، -، =.

41 \_\_\_\_\_ 0 \_\_\_\_\_ 41      10 \_\_\_\_\_ 2 \_\_\_\_\_ 8

14) في العدد 627 استبدل رقم العشرات بالرقم 8. العدد الجديد هو \_\_\_\_\_  
هل العدد الجديد كبر أم صغر وبكم؟ \_\_\_\_\_

### القسم الثاني: العمليات الحسابية

(أ) الجمع والطرح (20 علامة)

1) أمامك العددين 839 و 12

(أ) أكتب حاصل جمعهما \_\_\_\_\_

(ب) أكتب الفرق بينهما \_\_\_\_\_

2) أكتب عددا اصغر بـ 9 من 376: \_\_\_\_\_

-----

3) العدد الاكبر بـ 6 من 474 هو: \_\_\_\_\_

-----

4) أكتب العدد الناقص وبيّن طريقة الحل:-

	$628 = 217 + \underline{\hspace{2cm}}$
	$247 + \underline{\hspace{2cm}} = 328$
	$700 - \underline{\hspace{2cm}} = 527$
	$278 = \underline{\hspace{2cm}} - 562$
	$\underline{\hspace{2cm}} + 300 = 500$

-----

5) في التمرين  $259 + 328 = 587$

كبرنا أحد المضافين بـ 10 فإن حاصل الجمع يكبر أم يصغر وبكم ؟

\_\_\_\_\_

6) اكتب العدد الناقص لتصح الإشارة:-

$$720 + \underline{\quad} > 722 \text{ (أ)}$$

$$\underline{\quad} + 238 < 364 \text{ (ب)}$$

$$500 + \underline{\quad} = 20 + 521 \text{ (ج)}$$

$$\underline{\quad} - 25 = 845 - 20 \text{ (د)}$$

$$383 - \underline{\quad} > 380 \text{ (هـ)}$$

$$\underline{\quad} - 590 < 100 \text{ (و)}$$

7) رتب التمارين الآتية حسب نتيجتها من الأكبر إلى الأصغر:-

$$398 - 215$$



$$398 + 215$$

$$398 + 235$$

\_\_\_\_\_ > \_\_\_\_\_ > \_\_\_\_\_


ب) الضرب والقسمة (9 علامات)

1) أكتب تمرين ضرب ملائم للصورة:-



تمرين الضرب: \_\_\_\_\_

2) ارسم صورة ملائمة لتمرين الضرب  $3 \times 6$



الرسم الملائم ←

عبّر بإستعمال كلمة مرات / مجموعات عن الرسم الذي رسمته:-

---

---

---

3) حل التمارين الآتية:-

$$20 = 10 \times \underline{\quad}$$

$$9 \times 2 = \underline{\quad}$$

$$\underline{\quad} = 4 \times 6$$

$$\underline{\quad} \times 3 = 15$$

---

4) أكتب  $>$ ,  $<$  أو  $=$ :-

أ)  $4 \times 3$  \_\_\_\_\_  $3 \times 3$

ب)  $4 \times 5$  \_\_\_\_\_  $4+4+4+4$

5) حل المسائل كلامية الآتية: - (6 علامات)

أ) مع سامر 685 شاقل, أعطاه إياه 248 شاقل وأعطته أمه 50 شاقل.

كم شاقل أصبح معه؟

تمرين ملائم: \_\_\_\_\_

جواب المسألة: \_\_\_\_\_

---

ب) لدى سعاد 268 طابع, أعطت أختها 27 طابع ثم إشترت 42 طابع.

كم طابع مع سعاد؟

تمرين ملائم: \_\_\_\_\_

جواب المسألة: \_\_\_\_\_

---

ج) في السيارة 4 عجلات. كم عجل في 3 سيارات؟

تمرين ملائم: \_\_\_\_\_

جواب المسألة: \_\_\_\_\_