

## الكسر كجزء من واحد صحيح

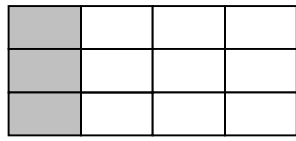


أ- الجزء الملون من الشكل هو:-

ج-  $\frac{2}{5}$

ب-  $\frac{5}{3}$

أ-  $\frac{3}{5}$

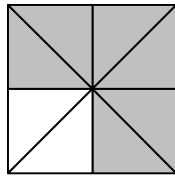


ب- الجزء الملون من الشكل هو:-

ج-  $\frac{1}{3}$

ب-  $\frac{9}{12}$

أ-  $\frac{1}{4}$

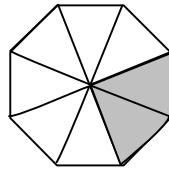


ج- الجزء الملون من الشكل هو:-

ج-  $\frac{2}{8}$

ب-  $\frac{3}{4}$

أ-  $\frac{1}{4}$



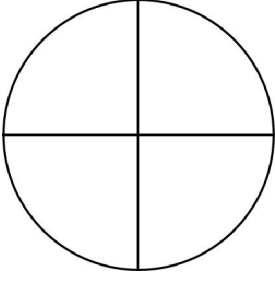
د- الجزء الملون من الشكل هو:-

ج-  $\frac{1}{4}$

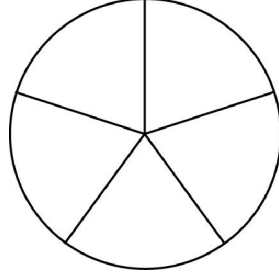
ب-  $\frac{6}{8}$

أ-  $\frac{8}{8}$

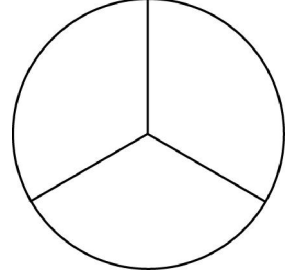
(2) لون الجزء الذي يدلّ عليه الكسر المكتوب تحت كلّ شكل :-




$$\frac{3}{4}$$




$$\frac{3}{5}$$



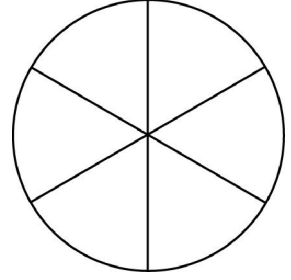
$$\frac{2}{3}$$



$$\frac{4}{6}$$

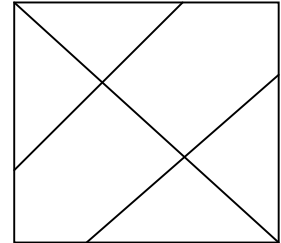




$$\frac{1}{2}$$






$$\frac{1}{3}$$

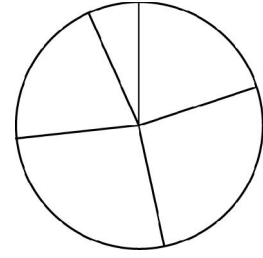
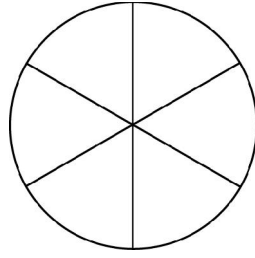
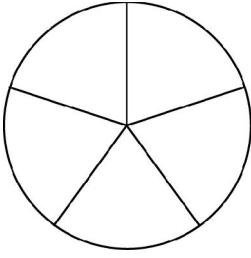
(3) لون  $\frac{5}{6}$  في الشكل المناسب :-



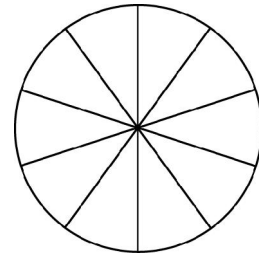
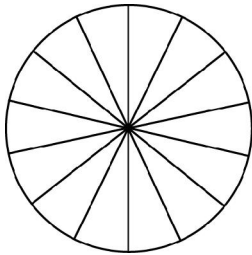
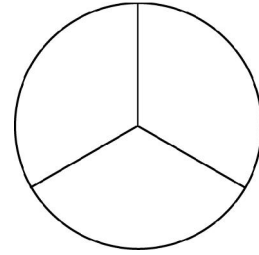
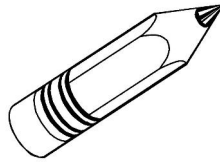
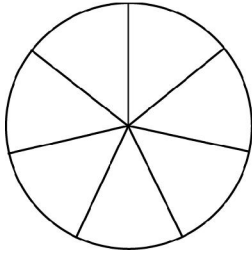
(4) لون  $\frac{1}{3}$  في الأشكال المناسبة:-



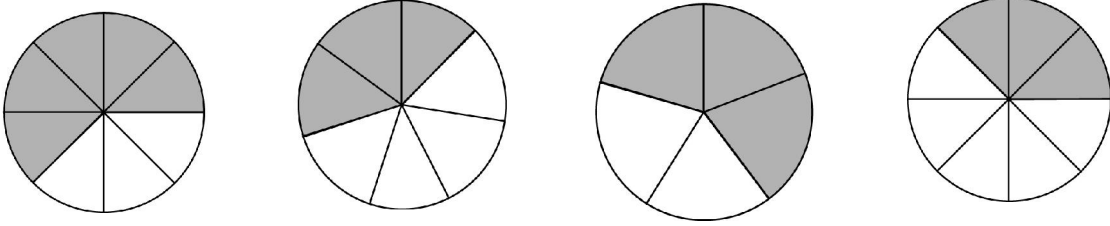
(5) لون  $\frac{3}{5}$  في الشكل المناسب:-



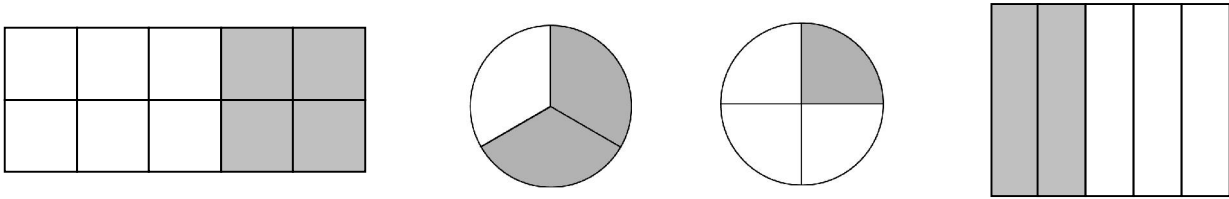
(6) لون الكسر  $\frac{3}{7}$  في الدوائر الملائمة:-



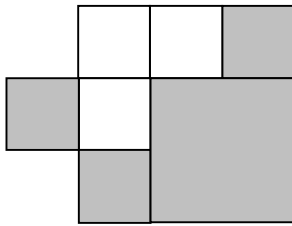
(7) أخط الدائرة التي فيها الجزء الملون هو  $\frac{3}{5}$  :-



(8) في أي من الأشكال الآتية الجزء الملون هو  $\frac{2}{5}$  :-



(9) أي جزء من الرسمة ملون بالرمادي؟



ب-  $\frac{2}{3}$

أ-  $\frac{1}{2}$

د-  $\frac{7}{10}$

ج-  $\frac{4}{7}$

(10) أي جزء من الرسمة ملون بالرمادي؟

الجواب: \_\_\_\_\_



أ-

الجواب: \_\_\_\_\_



ب-