



الاسم: _____

التاريخ: _____

اختبار للصف الخامس


الأعداد العشرية

(1) أكتب عددًا عشريًا لكل رسمة:-




(2) لَوّن الرسمة بحسب العدد العشري المعطى:-

0.05



0.14



(3) أكتب عددًا عشريًا لكل عدد:-

$$\frac{7}{10} =$$

$$\frac{35}{100} =$$

$$\frac{230}{1000} =$$

$$\frac{28}{10} =$$

$$\frac{105}{100} =$$

$$\frac{9}{1000} =$$

4) معطى العدد العشري 67.02

* أكتب العدد بالكلمات: _____

* ما هي قيمة الرقم 2 في العدد: _____

* الرقم 7 موجود في منزلة: _____

5) ما هي قيمة الرقم 4 في كل عدد:-

1.2456

124.56

12.456

6) أكتب < , > أو = :-

0.06 _____ 0.6

30.0 _____ 30

4.70 _____ 4.07

2 _____ 1.998

2.035 _____ 2.350

$\frac{1}{2}$ _____ 0.5

7) رتب الأعداد العشرية الآتية من الأصغر إلى الأكبر:-

0.5007

0.45

5.470

0.7

5.047

5.074

الأصغر

الأكبر

8) أكمل المتواليات الآتية:-

0.6	0.7	0.8	_____	_____	_____
_____	_____	_____	2.8	2.6	2.4
$\frac{1}{5}$	0.5	$\frac{8}{10}$	_____	_____	_____

9) أكمل الناقص:-

- أ) أكتب عددًا عشريًا يقع بين 0.9 و 1 _____
- ب) أكتب عددًا عشريًا أكبر من 0.3 وأصغر من 0.4 _____
- ج) أكتب عددًا عشريًا يقع بين 0.26 و 0.27 _____

8) حل التمارين الآتية:-

$$3.08 - 1.2 = \underline{\hspace{2cm}}$$
$$4.5 - 0.7 = \underline{\hspace{2cm}}$$
$$8.3 - 0.05 = \underline{\hspace{2cm}}$$
$$0.2 + 0.53 = \underline{\hspace{2cm}}$$
$$0.75 + 0.25 = \underline{\hspace{2cm}}$$

10) حذفت النقطة العشرية من العدد **7260**

- أ- عيّن النقطة العشرية، بحيث تحصل على عدد صحيح: _____
- ب- عيّن النقطة العشرية، بحيث تحصل على عدد أكبر من 50: _____
- ج- عيّن النقطة العشرية، بحيث تحصل على عدد أصغر من 10: _____
- د- عيّن النقطة العشرية، بحيث يمثل الرقم 2 قيمة مقدارها عشرينان: _____

11) اشتري سامر كتاب بـ 56.3 شاقل و دفتر بـ 43.2, هل تكفي 100

شاقل ليدفع ثمن أغراضه؟