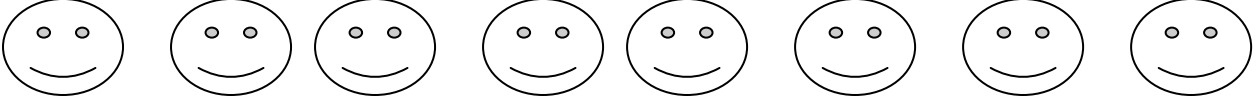


التاريخ: _____

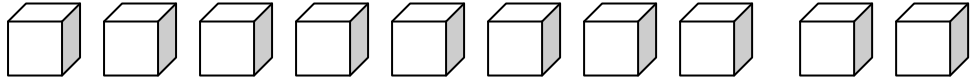
ورقة عمل للصف الأول

الاسم: _____

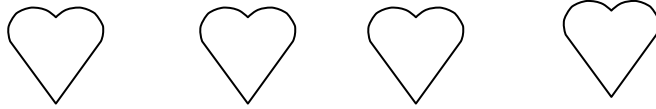
1) أ- أشطب الزائد حتى يبقى 4:-



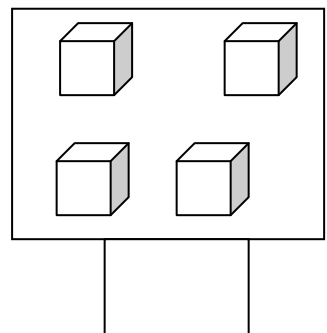
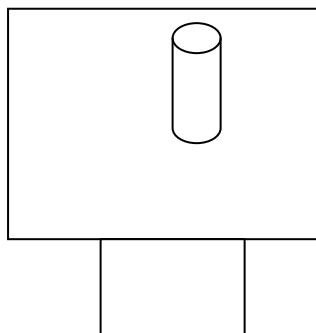
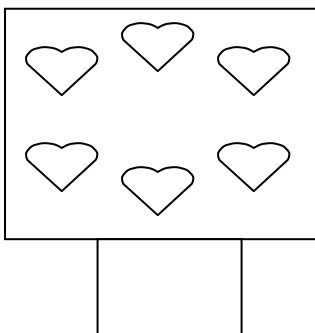
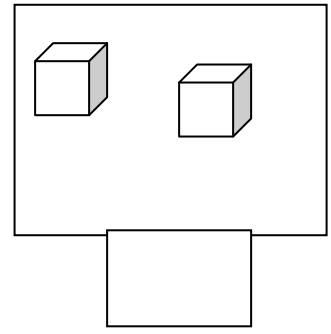
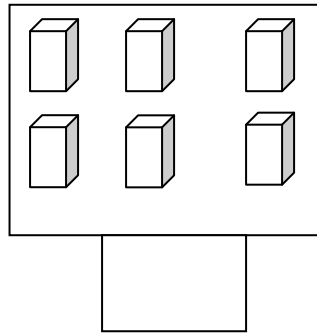
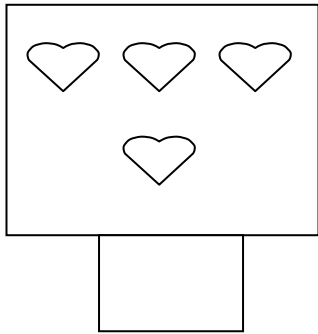
ب- أشطب الزائد حتى يبقى 6:-



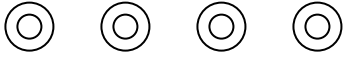
ج- أشطب الزائد حتى يبقى 2:-




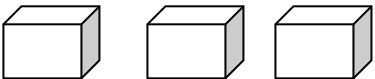
2) أكتب العدد الملائم لكل كمية:-

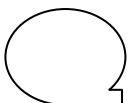



3) ضع دائرة حول العدد الملائم للكمية :-

	3 ، 4 ، 5 ، 6
---	---------------

	1 ، 2 ، 4 ، 6
---	---------------

	2 ، 3 ، 5 ، 7
---	---------------

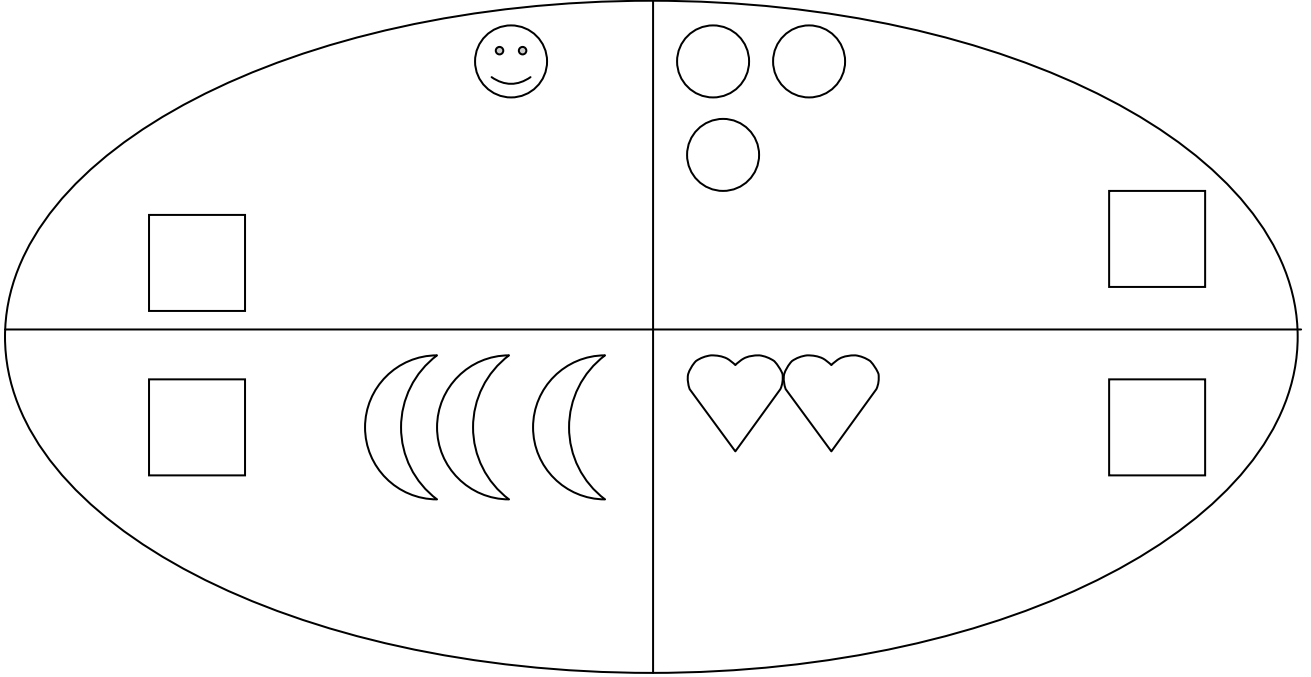
	1 ، 4 ، 5 ، 6
---	---------------

	1 ، 2 ، 6 ، 7 ، 8
---	-------------------

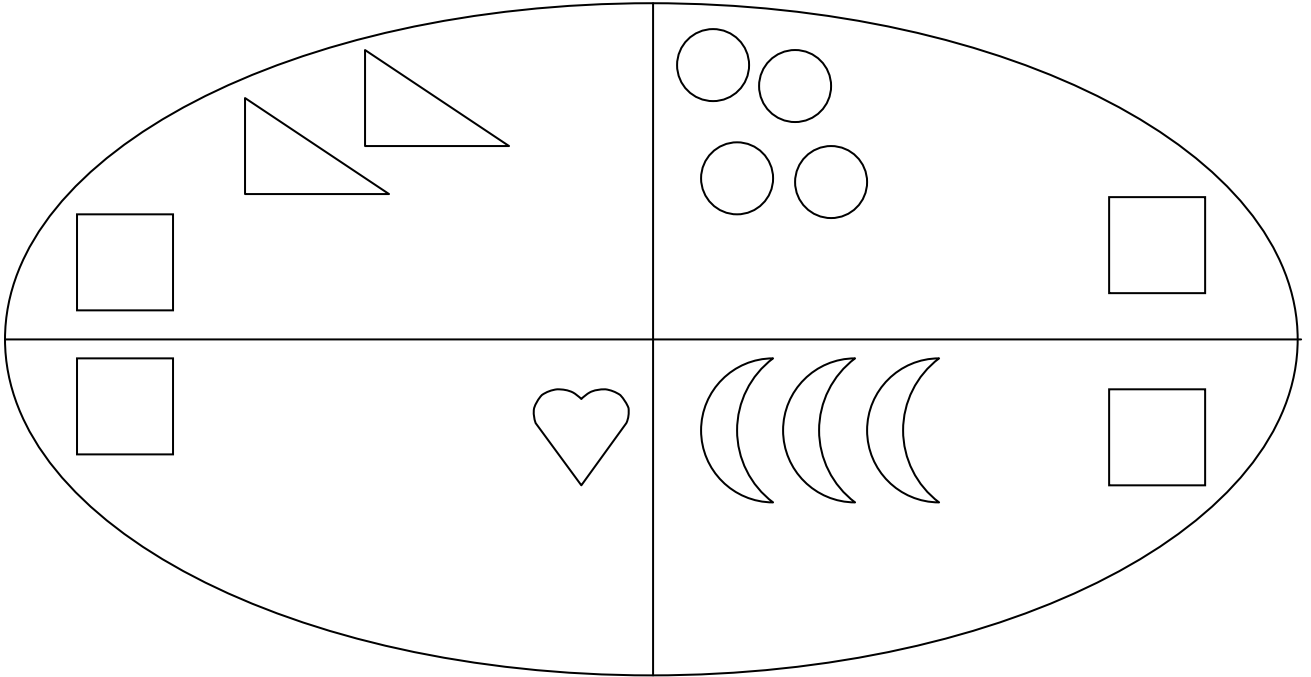
4) أكمل الرسم حسب العدد المطلوب :-

8	<input type="checkbox"/> <input type="checkbox"/>
10	<input type="checkbox"/> <input type="checkbox"/> <input type="checkbox"/>
7	<input type="checkbox"/> <input type="checkbox"/> <input type="checkbox"/> <input type="checkbox"/>



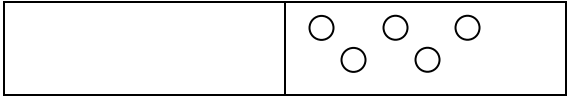

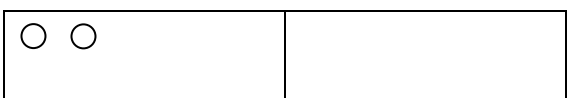
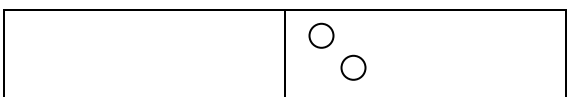


5) أ- أضف 5 أشكال في كل مجموعة، ثم أكتب عدد الأشكال الكلي في المربع :-



ب- أضف 67 أشكال في كل مجموعة، ثم أكتب عدد الأشكال الكلي في المربع :-



6) أكمل بالرسم وجد المضاف الناقص:-

$\boxed{2}$ و $\boxed{\quad}$ = $\boxed{4}$	
$\boxed{3}$ و $\boxed{\quad}$ = $\boxed{6}$	
$\boxed{\quad}$ و $\boxed{5}$ = $\boxed{9}$	
$\boxed{4}$ و $\boxed{\quad}$ = $\boxed{5}$	
$\boxed{2}$ و $\boxed{\quad}$ = $\boxed{7}$	
$\boxed{\quad}$ و $\boxed{2}$ = $\boxed{5}$	
$\boxed{1}$ و $\boxed{\quad}$ = $\boxed{8}$	
$\boxed{2}$ و $\boxed{\quad}$ = $\boxed{3}$	
$\boxed{\quad}$ و $\boxed{5}$ = $\boxed{10}$	