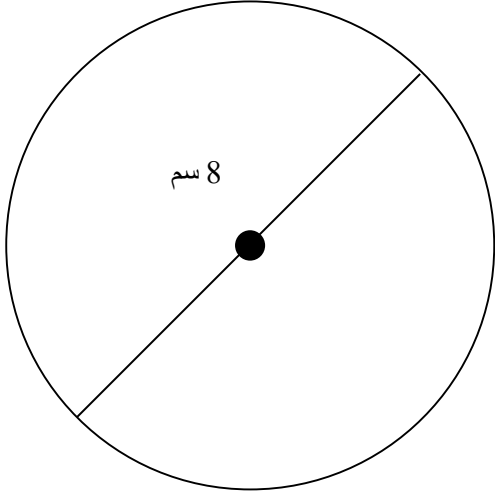


الاسم: _____
الصف: _____ الشعبة: _____

محيط ومساحة الدائرة

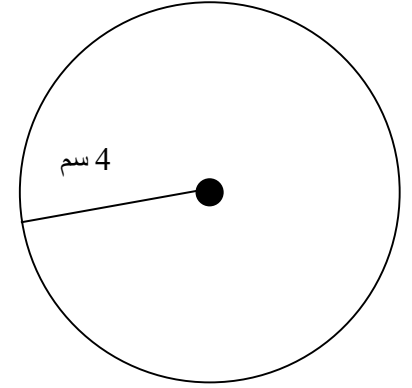


1) أ- جد محيط الدائرة: _____

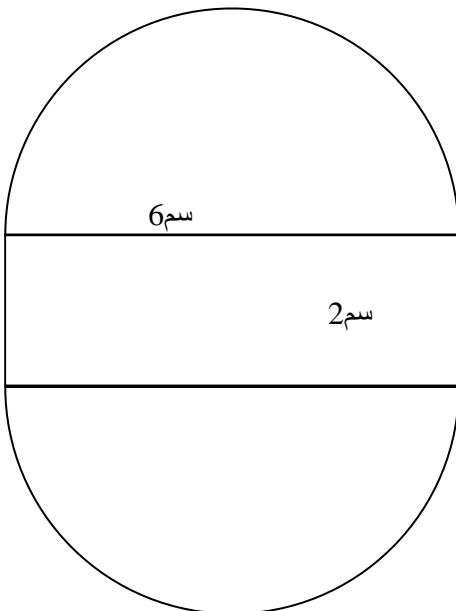
ب- جد مساحة الدائرة: _____

2) أ- جد محيط الدائرة: _____

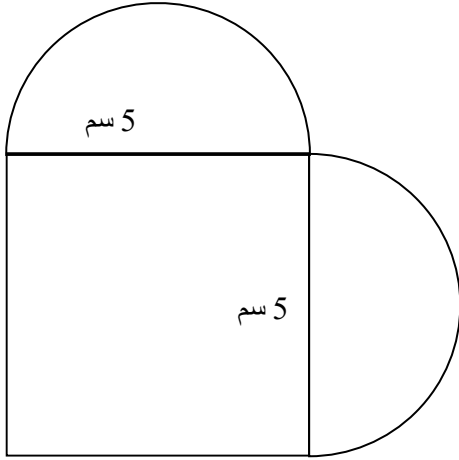
ب- جد مساحة الدائرة: _____



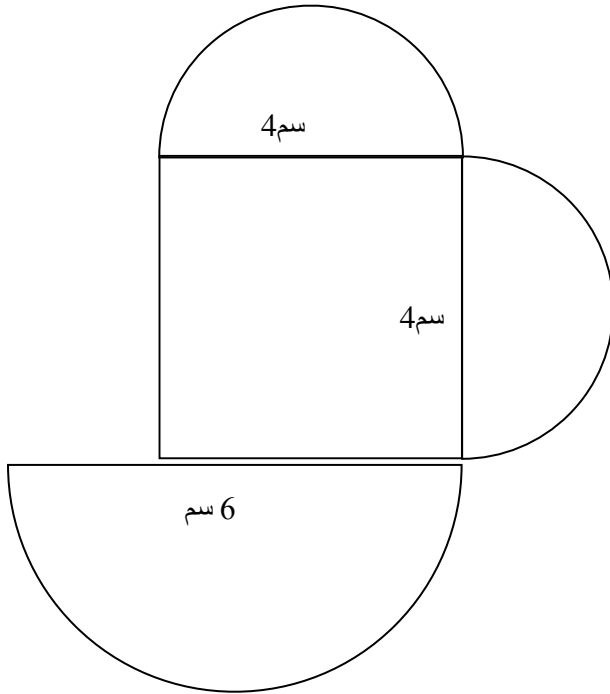
3) جد محيط كل شكل من الأشكال الآتية:-



محيط الشكل هو: _____ سم

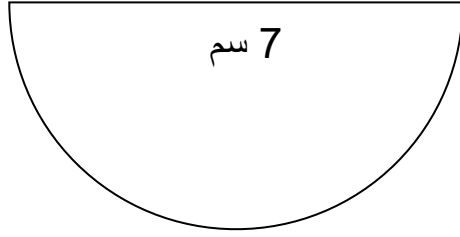


محيط الشكل هو: _____ سم



محيط الشكل هو: _____ سم

4) معطى نصف دائرة:-



أ- جد مساحة الشكل المعطى؟

المساحة هي: _____ سم مربع

ب- جد محيط الشكل المعطى؟

المحيط هو: _____ سم

5) احسب محيط مساحة الجزء الملون إذا علمت أن طول قطر الدائرة هو 7 سم:-

