

## ورقة عمل للصف الثالث في الزوايا

1) أكمل ما يلي :-



مقدار الزاوية: \_\_\_\_\_

نوع الزاوية: \_\_\_\_\_



مقدار الزاوية: \_\_\_\_\_

نوع الزاوية: \_\_\_\_\_



مقدار الزاوية: \_\_\_\_\_

نوع الزاوية: \_\_\_\_\_




مقدار الزاوية: \_\_\_\_\_

نوع الزاوية: \_\_\_\_\_



مقدار الزاوية: \_\_\_\_\_


نوع الزاوية: \_\_\_\_\_




مقدار الزاوية: \_\_\_\_\_

نوع الزاوية: \_\_\_\_\_

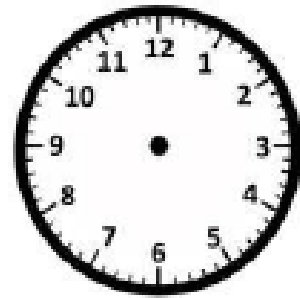
2) ارسم الزاوية بحسب المقدار المعطى :-



30 درجة



120 درجة



150 درجة