



محيط الدائرة


الاسم: _____

1) طول عقرب الدقائق في ساعة سمير هو 4 سم.
جد المسافة التي يقطعها طرف العقرب خلال 20 دقيقة؟

2) طول عقرب الدقائق في ساعة سعاد هو 4 سم.
جد المسافة التي يقطعها طرف العقرب خلال 30 دقيقة؟

3) طول عقرب الدقائق في ساعة فراس هو 6 سم.
جد المسافة التي يقطعها طرف العقرب خلال 15 دقيقة؟


4) طول عقرب الدقائق في ساعة أمير هو 4 سم.
جد المسافة التي يقطعها طرف العقرب خلال 20 دقيقة؟



5) طول عقرب الساعات في ساعة لينا هو 2 سم.
جد المسافة التي يقطعها طرف العقرب خلال 3 ساعات؟

6) طول عقرب الساعات في ساعة فاتن هو 4 سم.
جد المسافة التي يقطعها طرف العقرب خلال 6 ساعات؟

7) طول عقرب الساعات في ساعة علاء هو 5 سم.
جد المسافة التي يقطعها طرف العقرب خلال 9 ساعات؟




8) جد طول عقرب الساعات في ساعة المدرسة؟

إذا علمت أن طرف العقرب قطع مسافة 30 سم تقريباً خلال 3 ساعات.



9) جد طول عقرب الساعات في ساعة بيت فارس؟

إذا علمت أن طرف العقرب قطع مسافة 25 سم تقريباً خلال 6 ساعات.



10) جد طول عقرب الساعات في ساعة بيت سعاد؟

إذا علمت أن طرف العقرب قطع مسافة 45 سم تقريباً خلال 9 ساعات.

