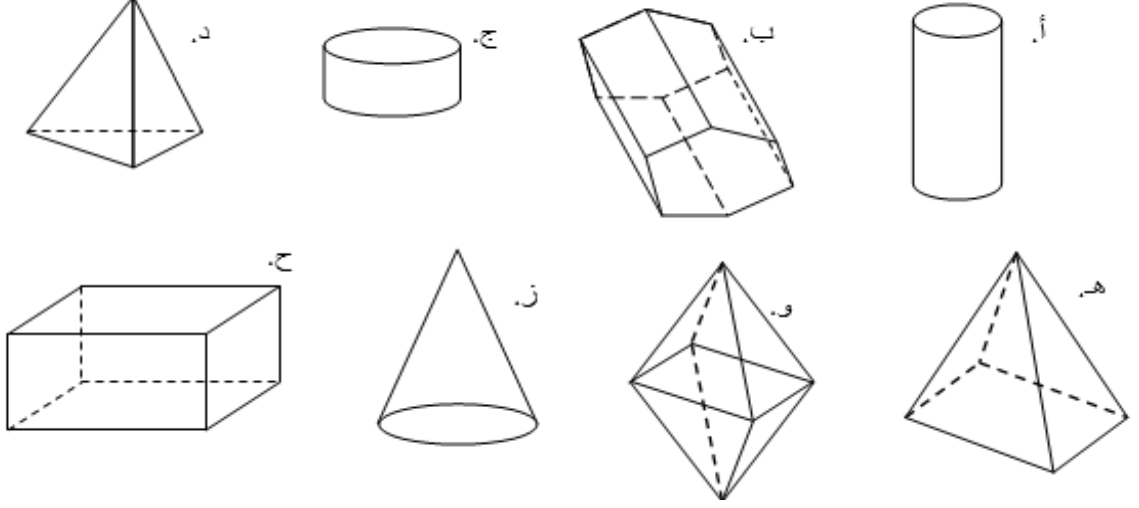


تقييم للصف السادس في المجسمات

1) اكتب اسم المجسم:-



2) أ- أكتب اسم المجسم: _____

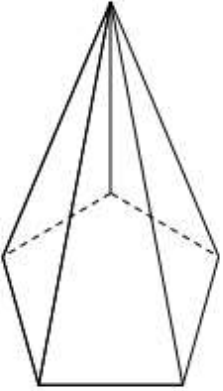
ب- لَوْن رُؤُوس المِجْسَم، ثمَّ سجِّل عدد الرؤوس: _____

ج- لَوْن قاعِدة المِجْسَم، كم قاعِدة وجدت: _____

د- سجِّل عدد الأوجه في المِجْسَم: _____

هـ- سجِّل عدد الأضلاع في المِجْسَم: _____

و- الأوجه الجانبيّة للمِجْسَم مكوّنة من: _____



3) أكتب كلمة "صواب" أم "خطأ" :-

أ- مجسم متعدد السطوح هو مجسم مبني من مضلعات فقط: _____

ب- الاسطوانة هي مجسم متعدد السطوح: _____

ج- المخروط له قاعدة واحدة وهي مضلع: _____

د- للهرم قاعدة واحدة وباقي سطوح الغلاف هم مستطيلات: _____

هـ- أوجه غلاف المنشور الثلاثي هي مثلثات: _____

4) أكمل من أنا؟؟

أ- أنا مجسم مكون من 5 وجوه: _____

ب- أنا مجسم مكون من 10 رؤوس: _____

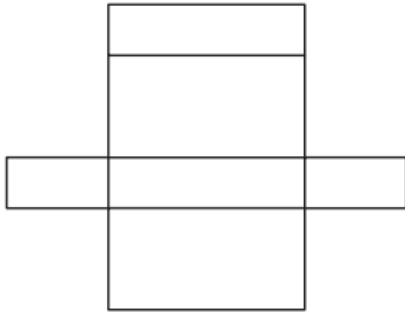
ج- لدي قاعدة واحدة دائرية: _____

5) أكمل الجدول:-

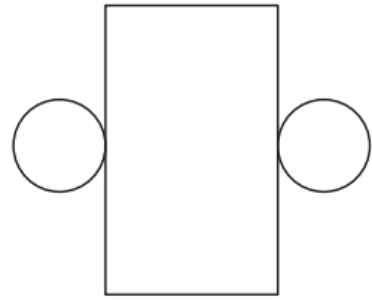
منشور رباعي	هرم رباعي	
		عدد الرؤوس
		عدد الاضلاع
		عدد الواجه (الغلاف + القاعدة)
		عدد القواعد

6) اكتب اسم الجسم الناتج من الفرش:-

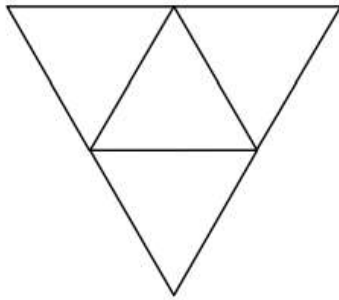
1)



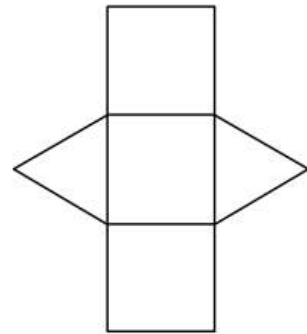
2)



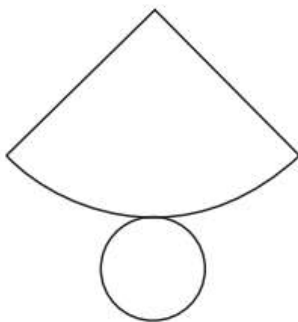
3)



4)



5)



6)

