

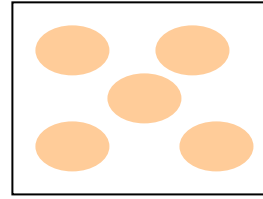
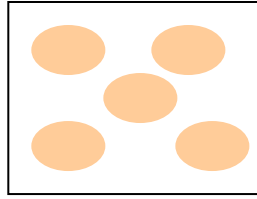
التاريخ: \_\_\_\_\_

الاسم: \_\_\_\_\_

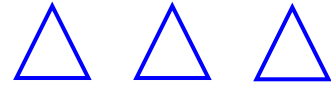
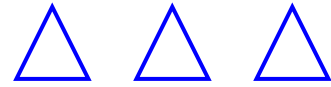
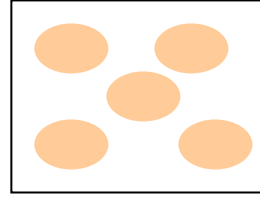
## إختبار تشخيص للصف الثالث

### في معرفة عمليتي الضرب والقسمة

1) أكتب تمرين ضرب ملائم لكل رسم :-



\_\_\_\_\_



\_\_\_\_\_

2) أرسم بحسب المطلوب :-

$3 \times 1$	$6 \times 5$
--------------	--------------

3 حلّ :-

$5 \times 5 =$

$3 \times 8 =$

$2 \times 6 =$

$6 \times 5 =$

$16 \div 4 =$

$35 \div 5 =$

$22 \div 6 =$

$9 \div 4 =$

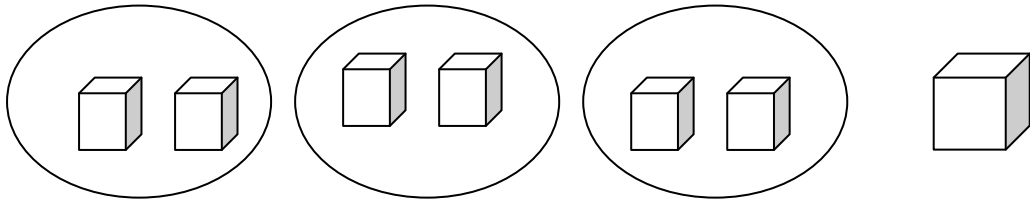
4) ضع < ، > أو = :-

$3 \times 9 \quad \underline{\hspace{2cm}} \quad 2 \times 9$

$20 \div 5 \quad \underline{\hspace{2cm}} \quad 16 \div 4$

$1 \times 6 \quad \underline{\hspace{2cm}} \quad 0 \times 5$

5) اكتب تمرين قسمة ملائم :-



$\underline{\hspace{2cm}} \div \underline{\hspace{2cm}} = \underline{\hspace{2cm}} \quad ( \quad )$

6) أكمل الناقص :-

$\underline{\hspace{1cm}} \div 6 = 3$

$14 \times \underline{\hspace{1cm}} = 14$

$6 \times \underline{\hspace{1cm}} \times 3 = 0$

$24 \div \underline{\hspace{1cm}} = 8$

$\underline{\hspace{1cm}} \div 2 > 4$

$12 \div \underline{\hspace{1cm}} < 4$

$5 \times \underline{\hspace{1cm}} < 20$

$3 \times \underline{\hspace{1cm}} > 12$

7) أجب عن الأسئلة الآتية :-

أ- عاملان حاصل ضربهما 30.

العاملان هما: \_\_\_\_\_ ، \_\_\_\_\_

هل توجد إمكانية أخرى، إذا نعم أكتبه: \_\_\_\_\_

ب- حاصل ضرب عاملين 18، أحد العاملين هو 3، ما هو العامل الآخر؟

العامل الآخر هو: \_\_\_\_\_

ج- أكتب عددين حاصل ضربهما أكبر من 20 وأصغر من 30.

العددان هما: \_\_\_\_\_ ، \_\_\_\_\_

د- اكتب عددا من مضاعفات العدد 4. العدد هو: \_\_\_\_\_

هـ- أكتب عدداً من مضاعفات العدد 3 ولكنه ليس من مضاعفات العدد 6.

العدد هو: \_\_\_\_\_

8) في كل كتاب حساب 79 صفحة، كم صفحة في 5 كتب؟

9) مع سائد 23 بنورة، أراد توزيعها على 4 أولاد.

أ- كم بنورة يأخذ كل ولد؟

ب- كم بنورة يبقى؟