

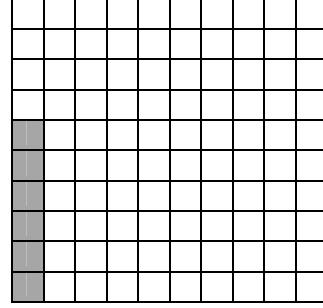

الاسم: _____

التاريخ: _____

اختبار للصف الخامس


الأعداد العشرية

(1) أكتب عددًا عشريًا لكل رسم:-




(2) لون حسب العدد المعطى:-


0.05




0.14



0.5



$\frac{3}{4}$



3) أكتب عددًا عشريًا لكلّ عدد:-

$$\frac{8}{10} =$$

$$\frac{99}{100} =$$

$$\frac{230}{1000} =$$

$$\frac{37}{10} =$$

$$\frac{103}{100} =$$

$$\frac{17}{1000} =$$

$$\frac{1}{2} =$$

$$\frac{3}{5} =$$

$$\frac{3}{20} =$$

$$\frac{6}{50} =$$

$$\frac{3}{4} =$$

$$\frac{4}{25} =$$

4) معطى العدد العشري **5.03**

* أكتب العدد بالكلمات: _____

* ما هي قيمة الرقم **3** في العدد: _____

* الرقم **5** موجود في منزلة: _____

5) ما هي قيمة الرقم **4** في كلّ عدد:-

1.2456

124.56

12.456

(6) أكتب < , > أو = :-

$$0.06 \quad \underline{\hspace{2cm}} \quad 0.6$$

$$30.0 \quad \underline{\hspace{2cm}} \quad 30$$

$$4.70 \quad \underline{\hspace{2cm}} \quad 4.07$$

$$2 \quad \underline{\hspace{2cm}} \quad 1.998$$

$$2.035 \quad \underline{\hspace{2cm}} \quad 2.350$$

$$\frac{1}{2} \quad \underline{\hspace{2cm}} \quad 0.5$$

(7) رتب الأعداد العشرية الآتية من الأصغر إلى الأكبر:-

0.5007 0.45 5.470 0.7 5.047 5.074

الأصغر

الأكبر

(8) أكمل المتواليات الآتية:-

0.6 0.7 0.8 _____

_____ 2.8 2.6 2.4

$\frac{1}{5}$ 0.5 $\frac{8}{10}$ _____

9) أكمل الناقص:-

أ) أكتب عددًا عشريًا يقع بين 0.9 و 1 _____

ب) أكتب عددًا عشريًا أكبر من 0.3 وأصغر من 0.4 _____

ج) أكتب عددًا عشريًا يقع بين 0.26 و 0.27 _____

10) حل التمارين الآتية:-

$$3.08 - 1.2 = \underline{\hspace{2cm}}$$

$$4.5 - 0.7 = \underline{\hspace{2cm}}$$

$$8.3 - 0.05 = \underline{\hspace{2cm}}$$

$$0.2 + 0.53 = \underline{\hspace{2cm}}$$

$$0.75 + 0.25 = \underline{\hspace{2cm}}$$

11) حذفت النقطة العشرية من العدد **5270**

أ- عيّن النقطة العشرية، بحيث تحصل على عدد صحيح: _____

ب- عيّن النقطة العشرية، بحيث تحصل على عدد أكبر من 50: _____

ج- عيّن النقطة العشرية، بحيث تحصل على عدد أصغر من 10: _____

د- عيّن النقطة العشرية، بحيث يمثل الرقم 2 قيمة مقدارها وحدتان: _____

12) اشتري فارس كتاب بـ 23.3 شاقل و دفتر بـ 25.2, هل تكفي

50 شاقل ليدفع ثمن أغراضه؟