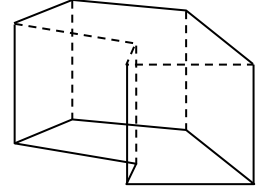
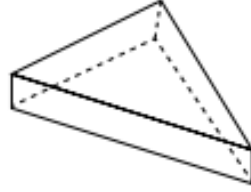
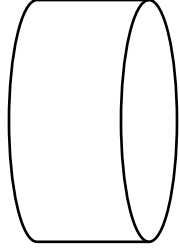
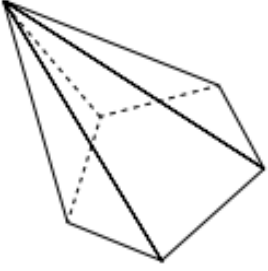


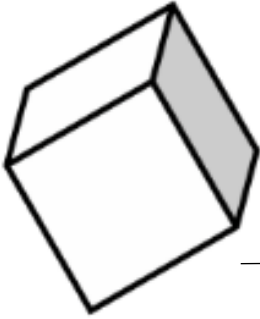
اختبار للصف السادس في المجسمات

الاسم: _____

(6 علامات)

(1 اكتب اسم المجسم:-







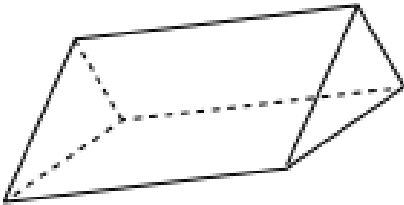
(2 أ- أكتب اسم المجسم: _____

ب- لَوْنِ رُؤُوسِ المَجْسَمِ، ثُمَّ سَجِّلِ عِدَدَ الرُّؤُوسِ: _____

ج- سَجِّلِ عِدَدَ الأُوجِهِ فِي المَجْسَمِ: _____

د- سَجِّلِ عِدَدَ الأَضْلَاعِ فِي المَجْسَمِ: _____

هـ- الأُوجِهَ الجَانِبِيَّةَ لِلْمَجْسَمِ مَكُونَةٌ مِنْ: _____



(5 علامات)

(5 علامات)

3) أكتب كلمة "صواب" أم "خطأ" :-

أ- المكعب مبني من 6 مربعات متطابقة: _____

ب- كل صندوق هو مكعب: _____

ج- المخروط هو مجسم متعدد السطوح: _____

د- للهرم قاعدة واحدة وباقي سطوح الغلاف هم مستطيلات: _____

هـ- أوجه غلاف المنشور الثلاثي هي مثلثات: _____

(علامة)

4) أكمل من أنا؟؟

أنا مجسم مكون من 10 رؤوس: _____

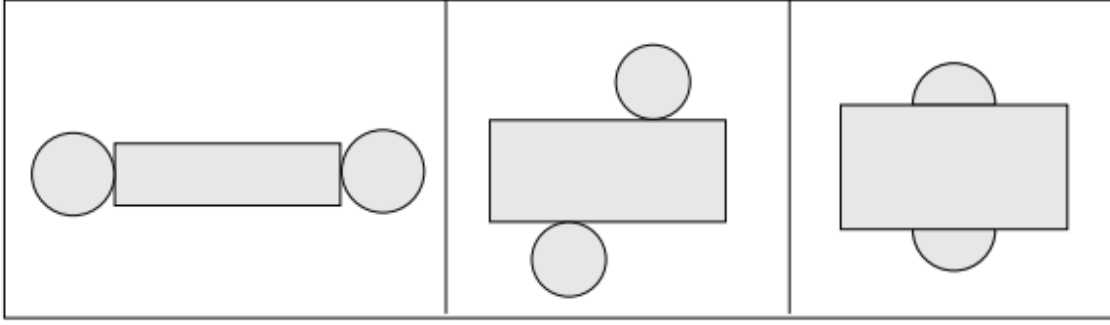
(4 علامات)

5) أكمل الجدول التالي:-

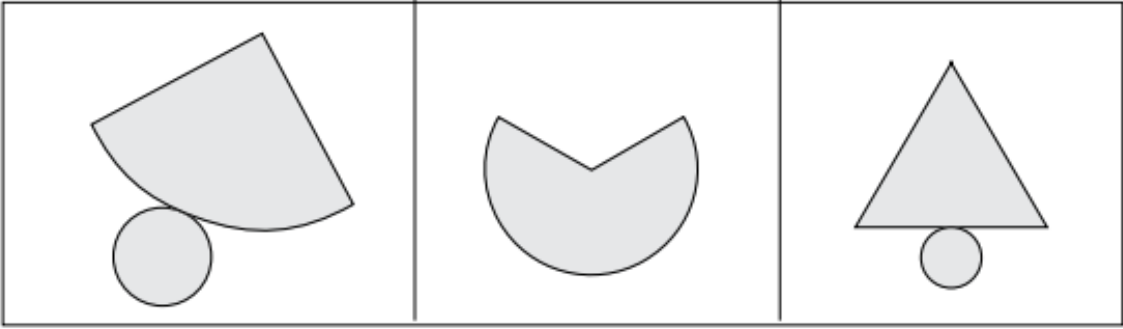
هرم رباعي	منشور رباعي	
		عدد الرؤوس
		عدد الاضلاع
		عدد الواجه (الغلاف + القاعدة)
		عدد القواعد

6) أ- حوِّط فرش الاسطوانة:-

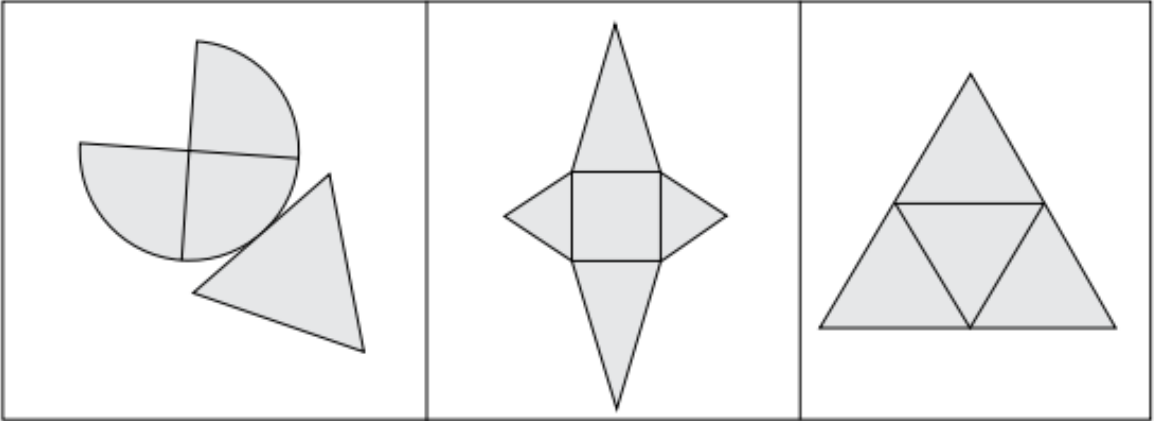
(3 علامات)



ب- حوِّط فرش المخروط:-



ج- حوِّط فرش الهرم:-



7) اكتب اسم المجسم الذي تحصل عليه من الفرش المعطى:- (علامة)

الجواب: _____

